

ADIM ADIM
KAZANIM ODAKLI

YENİLENDİK

6. SINIF

KAREKOD ÇÖZÜMLÜ SORU BANKASI

VİP TÜM DERSLER

MATEMATİK | TÜRKÇE | FEN BİLİMLERİ | SOSYAL BİLGİLER
DİN KÜLTÜRÜ VE AHLAK BİLGİSİ | İNGİLİZCE

Çözümler İçin
Karekodu Okutunuz



YENİ MÜFREDAT-PRATİK-ANLAŞILIR-ÖĞRETİCİ



6. SINIF

TÜM DERSLER SORU BANKASI

EDİTÖR

Turgut MEŞE

YAZAR

Komisyon

Bütün hakları Editör Yayınevine aittir.

Yayıncının izni olmaksızın kitabın tümünün veya bir kısmının elektronik, mekânîk yollarla ya da fotokopi yoluyla basımı, çoğaltılması ve dağıtımı yapılamaz.

ISBN

978-605-280-303-5

SERTİFİKA NO

40447

KAPAK TASARIMI

Editör Yayınevi Tasarım Ekibi

SAYFA TASARIMI

Editör Yayınevi Dizgi Ekibi

BASKI VE CİLT

Özgür Web Matbaacılık

ANKARA



İLETİŞİM

İvedik Organize Sanayi Matbaacılar Sitesi

1518 Sok. Mat-Sit İş Merkezi No:2/20

Yenimahalle / ANKARA

Tel: 0 312 384 20 33 - 0 505 925 57 81

Fax: 0312 342 23 58

www.editoryayinevi.com

Kitap hakkında görüş ve önerileriniz için

WhatsApp hattımız: 05422620337

ÖNSÖZ

Geleceğin Parlayan Yıldızları,

Bu kitap Milli Eğitim Bakanlığının belirlediği ders müfredatına uygun olarak hazırlandı. Derslerde daha başarılı ve aktif olmanızı sağlayan birçok özelliğe sahiptir. Bilginin yanı sıra mukayese, muhakeme ve yorum yeteneği kazanacaksınız.

Eğlenceli ve görsel içeriğiyle sizlere neşeli bir çalışma imkânı sunan bu kitap, geleceğe yönelik hayallerinizin ve ideallerinizin ilk basamağı olacak.

Editör Yayınevi, ilkokuldan üniversiteye, eğitim hayatınızın her aşamasında yanınızda olacaktır.

Editör Yayınevi

www.editoryayinevi.com

KULLANIM ŞEMASI

Kırmızı numaralı sorular beceri temelli yeni nesil sorulardır.

15. Kavramlar arasında kapsadıkları anlam bakımından genel ya da özel anlam bildiren sözcükler vardır. Örneğin "eşya" sözcüğü genel anlamı, "masa" sözcüğü özel anlamıdır. Buna göre aşağıdakilerden hangisinde özelden genele sıralaması doğru verilmiştir?

A) Canlı	Genel	B) Serçe	Genel
Hayvan	↑	Canlı	↑
Kuş	↓	Hayvan	↓
Serçe	Özel	Kuş	Özel
C) Serçe	Genel	D) Serçe	Genel
Kuş	↑	Kuş	↑
Canlı	↓	Hayvan	↓
Hayvan	Özel	Canlı	Özel

Mavi numaralı sorular kazanım sorulardır.

13. "Olanları aktardı, sonra da gitti." cümlesinde altı çizili kelimenin yakın anlamlısı aşağıdakilerden hangisinde vardır?

- A) Mesajını ilettiler ve sustu.
B) Tüm postalarını almış.
C) Usulca gökyüzünü seyrediyordu.
D) Denizi, gözleri kapalı dinliyordu.

6.
SINIF

MATEMATİK

EDİTÖR YAYINLARI

KONULAR

• ÜSLÜ İFADELER	9	• ONDALIK GÖSTERİMLERLE PROBLEM ÇÖZME - 1.73	
• İŞLEM ÖNCELİĞİ	11	• ONDALIK GÖSTERİMLERLE PROBLEM ÇÖZME - 2.75	
• ORTAK ÇARPAN PARANTEZİ VE DAĞILMA ÖZELLİĞİ	13	• ORAN	77
• DOĞAL SAYILARLA PROBLEMLER - 1	15	• BİRİMLİ VE BİRİMSİZ ORAN	79
• DOĞAL SAYILARLA PROBLEMLER - 2	17	• CEBİRSEL İFADELER	81
• ÇARPANLAR VE KATLAR	19	• SÖZEL OLARAK VERİLEN DURUMA UYGUN CEBİRSEL İFADE VE VERİLEN CEBİRSEL İFADEYE UYGUN SÖZEL DURUM YAZMA	83
• KALANSIZ BÖLÜNEBİLME KURALLARI - 1	21	• CEBİRSEL İFADELERİN MODELLEMESİ	85
• KALANSIZ BÖLÜNEBİLME KURALLARI - 2	23	• ARAŞTIRMA SORULARI OLUŞTURMA	87
• ASAL SAYILAR	25	• VERİ TOPLAMA VE DÜZENLEME	89
• ASAL ÇARPANLAR	27	• AÇIKLIK	91
• İKİ DOĞAL SAYININ ORTAK KATLARI	29	• ARİTMETİK ORTALAMA	93
• İKİ DOĞAL SAYININ ORTAK BÖLENLERİ	31	• İKİ VERİ GRUBUNUN KARŞILAŞTIRILMASI VE YORUMLANMASINDA ARİTMETİK ORTALAMA VE AÇIKLIK	95
• KÜMELER - 1	33	• AÇI	97
• KÜMELER - 2	35	• EŞ AÇI	99
• TAM SAYILAR	37	• TÜMLER VE KOMŞU TÜMLER AÇILAR	101
• TAM SAYILARIN KARŞILAŞTIRILMASI VE SIRALANMASI	39	• BÜTÜNLER VE KOMŞU BÜTÜNLER AÇILAR	103
• MUTLAK DEĞER	41	• TERS AÇILAR	105
• KESİRLERDE SIRALAMA	43	• ÜÇGENİN ALANI - 1	107
• KESİRLERLE TOPLAMA İŞLEMİ	45	• ÜÇGENİN ALANI - 2	109
• KESİRLERLE ÇIKARMA İŞLEMİ	47	• PARALELKENARIN ALANI	111
• KESİRLERLE ÇARPMA İŞLEMİ	49	• ALAN ÖLÇME BİRİMLERİ	113
• KESİRLERLE BÖLME İŞLEMİ	51	• ARAZİ ÖLÇME BİRİMLERİ	115
• KESİRLERLE İŞLEMLERİN SONUCUNU TAHMİN ETME	53	• ALAN ÖLÇME PROBLEMLERİ - 1	117
• KESİRLERLE PROBLEMLER - 1	55	• ALAN ÖLÇME PROBLEMLERİ - 2	119
• KESİRLERLE PROBLEMLER - 2	57	• ÇEMBER VE DAİRE	121
• BÖLME İŞLEMİ İLE KESİR İLİŞKİSİ	59	• ÇEMBERİN UZUNLUĞU	123
• ONDALIK GÖSTERİMİ VERİLEN SAYILARI ÇÖZÜMLEME	61	• DİKDÖRTGENLER PRİZMASININ HACMİ	125
• ONDALIK GÖSTERİMLERİ VERİLEN SAYILARI YUVARLAMA	63	• HACİM ÖLÇME BİRİMLERİ	127
• ONDALIK GÖSTERİMLERDE ÇARPMA İŞLEMİ	65	• HACİM ÖLÇME PROBLEMLERİ - 1	129
• ONDALIK GÖSTERİMLERDE BÖLME İŞLEMİ	67	• HACİM ÖLÇME PROBLEMLERİ - 2	131
• ONDALIK GÖSTERİMLERİ 10 , 100 , 1000 İLE KISA YOLDAN ÇARPMA VE BÖLME İŞLEMİ	69	• DİKDÖRTGENLER PRİZMASININ HACMİNİ TAHMİN ETME	133
• ONDALIK GÖSTERİMLERDE YAPILAN İŞLEMLERİN SONUCUNU TAHMİN ETME	71	• SIVI ÖLÇME BİRİMLERİ	135

a ve n birer doğal sayı olmak üzere a^n biçimindeki ifadelere **üslü ifadeler** denir.

$$a^n = \underbrace{a \cdot a \cdot a \cdot a \dots a}_{n \text{ tane}} \Rightarrow 3^4 = 3 \cdot 3 \cdot 3 \cdot 3 = 81$$

↙ Taban

- Sayının kendisi ile çarpımı “karesi”, üç kez çarpımı “küpü” diye okunur.
 - › $4^2 \Rightarrow$ Dördün karesi, $5^3 \Rightarrow$ Beşin küpü
- Sıfır hariç tüm sayıların sıfırncı kuvveti 1’dir.
 - › $8^0 = 1$ › $15^0 = 1$
- Bütün sayıların 1. kuvveti kendisine eşittir.
 - › $5^1 = 5$ › $7^1 = 7$
- 1’in bütün kuvvetleri 1’e eşittir.
 - › $1^{100} = 1$ › $1^{12} = 1$
- 10^m sayısının sonunda m tane sıfır vardır. Bu sayı $m+1$ basamaklıdır.
 - › $10^4 = 10000 \rightarrow$ Sonunda 4 sıfır vardır ve beş basamaklıdır.

TEST 1



Çözümler için
karekodu okutunuz

1. $A = 10^2$, $B = 10^3$, $C = 10^4$, $D = 11$

Yukarıda verilenlere göre $A + B + C + D$ işleminin sonucu aşağıdakilerden hangisidir?

- A) 10111 B) 10001
C) 10011 D) 11111

2. Aşağıda verilen karelerin alanları içlerine yazılmıştır.

Buna göre, hangi karenin bir kenarının uzunluğu doğal sayı olmaz?

- A) 1 B) 36 C) 72 D) 81

3. 7 basamaklı en küçük doğal sayının üslü nicelik olarak yazılışı aşağıdakilerden hangisidir?

- A) 10^5 B) 10^6 C) 10^7 D) 10^8

4. $4^n = 64$ ve $7^m = 49$ ise $m.n$ kaçtır?

- A) 2 B) 4 C) 6 D) 8

5. $\underbrace{6 \cdot 6 \cdot 6 \cdot \dots \cdot 6}_{n \text{ tane}} = 6^9$

$7 \cdot 7 \cdot 7 \cdot 7 \cdot 7 \cdot 7 \cdot 7 = 7^\blacktriangle$

Yukarıda verilenlere göre (n , \blacktriangle) işleminin sonucu kaçtır?

- A) 60 B) 61 C) 62 D) 63

6.

2	2	4	8
3	3	A	27
4	B	16	C
5	5	D	E

Yukarıdaki tablo belli bir kurala göre oluşturulmuştur.

Buna göre $A + B + C + D + E$ işleminin sonucu kaçtır?

- A) 240 B) 230 C) 227 D) 210

7. 2^4 , 3^3 , 5^2 , 19^0 ifadeleri için aşağıdaki sıralamalardan hangisi doğrudur?

- A) $2^4 < 3^3 < 5^2 < 19^0$
B) $3^3 < 5^2 < 2^4 < 19^0$
C) $19^0 < 2^4 < 3^3 < 5^2$
D) $19^0 < 2^4 < 5^2 < 3^3$

8. a. 5. 5. 5. 6. 6. 6. 6. 6. $c = 6^6 \cdot 5^5$ olduğuna göre a . c kaçtır?

- A) 150 B) 176 C) 216 D) 300

9. $3^2 < a < 4^3$ koşulunu sağlayan en küçük ve en büyük a doğal sayılarının toplamı kaçtır?

- A) 63 B) 71 C) 73 D) 75

10. a ve b birbirinden farklı rakamlar olmak üzere $a^2 = b$ koşulunu sağlayan kaç farklı ab iki basamaklı sayısı yazılabilir?

A) 1 B) 2 C) 3 D) 4

11. 2^6 ifadesi aşağıdakilerden hangisine eşittir?

A) $6 + 6$
B) $2 + 2 + 2 + 2 + 2 + 2$
C) $2 \cdot 2 \cdot 2 \cdot 2 \cdot 2 \cdot 2$
D) $6 + 6 + 6 + 6 + 6 + 6$

- 12.

I. $5^0=5$
II. $5^1=5$
III. $1^5=5$
IV. $0^5=5$

Yukarıda verilen eşitliklerden kaç tanesi doğrudur?

A) 4 B) 3 C) 2 D) 1

13. Bir üniversitedeki 3^3 öğrencinin her biri yeni kurulan kütüphane için eşit sayıda kitap bağışı yapmıştır. Toplanan kitaplar her birinde 3 tane kitap olacak şekilde 3^2 kutuya yerleştirilmiştir.

Buna göre her bir öğrenci kaç adet kitap bağışında bulunmuştur?

A) 27 B) 18 C) 9 D) 1

- 14.

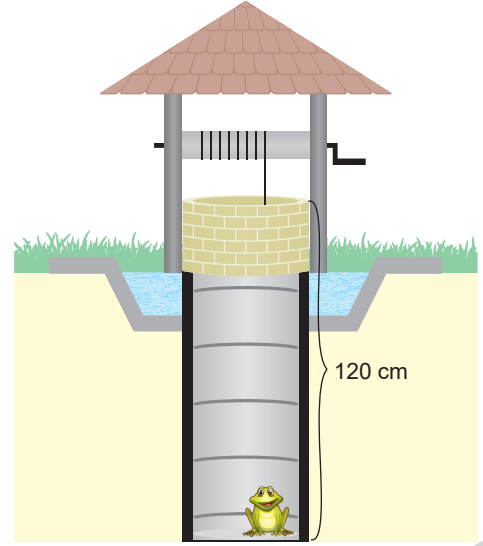
Üslü ifade	Değeri
2^3	125
5^3	25
25^1	8
4^3	81

Yukarıdaki tabloda üslü ifadeler ve bunlara karşılık gelen değerleri eşleştirilecektir.

Buna göre yanlış değerlerin yerine aşağıdakilerden hangisi yazılırsa tablonun tamamı doğru verilmiş olur?

A) 64 B) 15 C) 12 D) 6

- 15.



Yukarıdaki görselde Mert'in bahçe sulamak için açtığı kuyu gösterilmektedir. Bu kuyu yüzeye dik bir silindirik şeklindedir. Bir kurbağa her zıplamada 2^3 cm yukarı çıkarken 2 cm aşağı kaymaktadır.

Buna göre kurbağa kaçınıcı zıplamada kuyudan dışarı çıkar?

A) 21 B) 20 C) 19 D) 18

16. Bir çocuk elindeki topları aşağıdaki numaralandırılmış bölmelerden oluşan her iki kutunun birinci bölmesine 1, ikinci bölmesine 2, üçüncü bölmesine 3, ..., on altıncı bölmesine 16 tane top gelecek şekilde yerleştirmektedir.

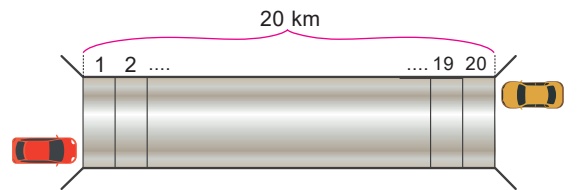
1	2	3	16
---	---	---	-------	----

1	2	3	16
---	---	---	-------	----

Çocuğun elinde son durumda 17 tane top kaldığına göre başlangıçta kaç tane top vardır?

A) 16^2 B) 17^2 C) 18^2 D) 19^2

- 17.



Şekildeki gibi her biri 1 km uzunluğunda olan 20 bölmeli bir yolun A ve B uçlarından aynı anda iki araç tünele giriyorlar. Araçların motor kuvvetleri 1,2 ve 1,4 olup saniyede onda birler basamağının karesi kadar (km) yol almaktadırlar.

Bu iki araç hangi iki bölmenin sınırında karşılaşılabirler?

A) 14-15 B) 9-10 C) 4-5 D) 15-16

- Birden fazla işlemin bulunduğu sorularda işlem sırası aşağıdaki gibidir.
 - › Üslü sayıların değeri bulunur.
 - › Parantez içindeki işlemler yapılır.
 - › Çarpma veya bölme işlemi yapılır.
 - › Toplama veya çıkarma işlemi yapılır.

Not: Aynı işlem önceliğine sahip işlemler soldan sağa doğru yapılır.

$$18 + \underline{12 : 6} = ?$$

$$18 + 2 = 20$$

$$\underline{18 \cdot 6} : 2 = ?$$

$$108 : 2 = 54$$

$$12 + \underline{6 : 2} - 4$$

$$\underline{12 + 3} - 4$$

$$15 - 4 = 11$$

TEST 2



Çözümler için
karekodu okutunuz

- (40 – 10) : 3 + 2 işleminde işlem öncelik sırası aşağıdakilerden hangisinde verilmiştir?**
 - Parantez içi - Bölme - Toplama
 - Bölme - Toplama - Parantez içi
 - Bölme - Çıkarma - Toplama
 - Toplama - Çıkarma - Bölme
- $a > 11 \cdot (3 + 2^2)$ koşulunu sağlayan en küçük a doğal sayısı kaçtır?**
 - 67
 - 77
 - 78
 - 79
- $2^3 + 4 \cdot (3^3 - 5^2 \div 5)$ işlemi yapılırken;**
 - $8 + 88 = 96$
 - $8 + 4(27 - 5)$
 - $8 + 4(27 - 25 \div 5)$
 - $8 + 4 \cdot 22$

sonuca ulaşmak için yapılan doğru sıralama aşağıdakilerden hangisidir?

 - II - III - IV - I
 - I - IV - II - III
 - III - II - I - IV
 - III - II - IV - I
- $40 - 15 \div 5 + 10$ işleminin sonucu kaçtır?**
 - 47
 - 39
 - 15
 - 5

- $3^4 \div 27 + 9 \div 3$
 - $63 \div 21 + 3 \cdot 1$
 - $(27 - 13) - (4 \cdot 2)$
 - $(2^2 + 5) - (3^0 + 6)$

Yukarıda verilen işlemlerden hangisinin sonucu diğerlerinden farklıdır?

- I
- II
- III
- IV

- $(42 \div 7 + 4)^6$ işleminin sonucu kaç basamaklı bir sayıya eşittir?**
 - 8
 - 7
 - 6
 - 5
- $40 - (20 - (10 - 5 \div 5))$ işleminin sonucu kaçtır?**
 - 31
 - 29
 - 21
 - 19
- $4 \cdot 2 + 8^2 \cdot (6 : 2 - 1)$ işleminin sonucu kaçtır?**
 - 136
 - 132
 - 130
 - 128
- $4.5 + 5.4 + 4.5$ işleminin sonucu kaçtır?**
 - 60
 - 55
 - 50
 - 45
- $9 - 3 \cdot 2 + 5 - 1 = 7$
 - $8 - 3 \cdot 1 + 2^2 : 1 - 5 = 5$
 - $(12 - 3) \cdot (7 - 5) - 2 - 16 = 0$

Yukarıda verilen işlemlerden hangileri doğrudur?

 - I ve II
 - II ve III
 - I ve III
 - Yalnız II

11.

1	2	3
4	5	6
7	8	9

1	x	3
:	5	+
7	-	9

Bir hesap makinesinin tuş fonksiyonları değiştirilip sağdaki gibi yapılmıştır.

İşlem yaparak sonucu 79 bulan bir kişi hangi tuşlara basmış olabilir?

- A) 929654187 B) 939742145
C) 829736716 D) 929156127

12. Aşağıdaki işlemlerden hangisi yanlış yapılmıştır?

- A) $16 - 4 \div 1 - 10 = 2$
B) $40 \div 8.5 + 6 - 3 = 0$
C) $80 - 15.5 + 6 = 11$
D) $26 - 4 + 8 = 30$

13.

+	a	b
c	8	6
d	12	9

-	a	b
c	4	1
d	2	3

Yukarıda işlem tabloları verilmiştir.

Buna göre, $[(c - b)^{100} + (a + c)^2 : (d - a)^4]$ işleminin sonucu kaçtır?

- A) 5 B) $\frac{65}{16}$ C) 104 D) 4

14.

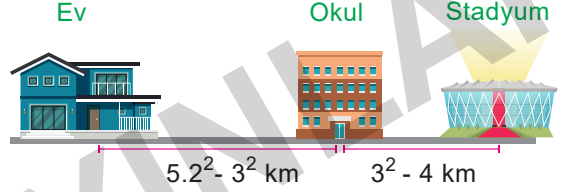
	a	b	c
p	1	2	3
r	4	5	6
s	7	8	9

Yukarıdaki tabloda yazılı sayılar satır ve sütun belirtmek üzere bulunabilir. Örneğin sb sayısı 8'dir.

Buna göre; $(sb)^2 : ar - sc.ap$ işleminin sonucu aşağıdakilerden hangisidir?

- A) sb B) sa C) rb D) pb

15.

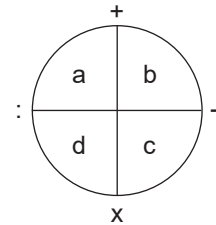


Muhsin'in evi ile okulu arası ve okulu ile stadyum arası mesafe verilmiştir.

Muhsin evden okula, sonra stadyuma, stadyumdan tekrar okula toplam kaç km yol almış olur?

- A) 21 B) 22 C) 23 D) 24

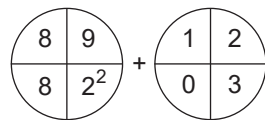
16.



Yukarıda verilen tabloda sayılar şu şekilde işlem görmektedir.

$a+b - c.d : a$

Buna göre;



işleminin sonucu kaçtır?

- A) 1^2 B) 2^2 C) 3^2 D) 4^2

6.
SINIF

TÜRKÇE

EDİTÖR YAYINLARI

KONULAR

• BIÇİM BİLGİSİ (ÇEKİM EKLERİ) - 1	139	• YAZIM KURALLARI (BİRLEŞİK SÖZCÜKLERİN	
• BIÇİM BİLGİSİ (ÇEKİM EKLERİ) - 2	141	YAZIMI- KISALTMALARIN YAZIMI)	201
• BIÇİM BİLGİSİ (SÖZCÜĞÜN YAPISI) - 1	143	• PARÇADA ANLAM (ANA DÜŞÜNCE-ANA DUYGU-	
• BIÇİM BİLGİSİ (SÖZCÜĞÜN YAPISI) - 2	145	KONU-BAŞLIK)	203
• BIÇİM BİLGİSİ (SÖZCÜĞÜN YAPISI) - 3	147	• PARÇADA ANLAM (YARDIMCI DÜŞÜNCE) - 1	205
• SÖZCÜKTE ANLAM (ÇOK ANLAMLILIK) - 1	149	• PARÇADA ANLAM (YARDIMCI DÜŞÜNCE) - 2	207
• SÖZCÜKTE ANLAM (ÇOK ANLAMLILIK) - 2	151	• PARÇADA ANLAM (GİRİŞ, GELİŞME, SONUÇ-	
• SÖZCÜKTE ANLAM (SÖZCÜKLER ARASI		DUYULARDAN YARARLANMA)	209
ANLAM İLİŞKİSİ) - 1	153	• PARÇADA ANLAM (PARÇA OLUŞTURMA-PARÇA	
• SÖZCÜKTE ANLAM (SÖZCÜKLER ARASI ANLAM		TAMAMLAMA-İKİ PARAGRAFA BÖLME)	211
İLİŞKİSİ) - 2	155	• PARÇADA ANLAM	
• SÖZCÜKTE ANLAM (SÖZ SANATLARI) - 1	157	(HİKÂYE UNSURLARI-ANLATICI)	213
• SÖZCÜKTE ANLAM (SÖZ SANATLARI) - 2	159	• PARÇADA ANLAM (METİN KARŞILAŞTIRMA)	215
• SÖZ GRUPLARINDA ANLAM (KALIPLAŞMAMIŞ		• PARÇADA ANLAM (METNİN DİL VE ANLATIM	
SÖZ GRUPLARI, İKİLEMELER)	161	ÖZELLİKLERİ)	217
• SÖZ GRUPLARINDA ANLAM (DEYİMLER VE		• NOKTALAMA İŞARETLERİ (NOKTA, VİRGÜL,	
ATASÖZLERİ - ÖZDEYİŞLER)	163	SORU İŞARETİ, NOKTALI VİRGÜL)	219
• İSİMLER - 1	165	• NOKTALAMA İŞARETLERİ (ÜNLEM, İKİ NOKTA,	
• İSİMLER - 2	167	ÜÇ NOKTA)	221
• SIFATLAR - 1	169	• NOKTALAMA İŞARETLERİ (KISA ÇİZGİ,	
• SIFATLAR - 2	171	KONUŞMA ÇİZGİSİ, TIRNAK İŞARETİ)	223
• İSİM TAMLAMALARI	173	• NOKTALAMA İŞARETLERİ (KESME İŞARETİ,	
• SIFAT TAMLAMALARI	175	EĞİK ÇİZGİ, YAY AYRAÇ, KÖŞELİ AYRAÇ)	225
• ZAMİRLER - 1	177	• METİN TÜRLERİ (ANI, MEKTUP)	227
• ZAMİRLER - 2	179	• METİN TÜRLERİ (TİYATRO, GEZİ YAZISI)	229
• BAĞLAÇ	181	• GÖRSEL OKUMA - 1	231
• EDAT - ÜNLEM	183	• GÖRSEL OKUMA - 2	233
• CÜMLEDE ANLAM (NEDEN-SONUÇ)	185	• SÖZEL MANTIK VE MUHAKEME - 1	235
• CÜMLEDE ANLAM (AMAÇ-SONUÇ, KOŞUL)	187	• SÖZEL MANTIK VE MUHAKEME - 2	237
• CÜMLEDE ANLAM (NESNEL VE ÖZNEL			
ÇIKARIM, ÇIKARIM CÜMLELERİ)	189		
• CÜMLEDE ANLAM (KARŞILAŞTIRMA,			
BENZETME, YAKIN ANLAMLI CÜMLE)	191		
• CÜMLEDE ANLAM (ÖRNEKLENDİRME,			
ABARTMA, VARSAYIM)	193		
• CÜMLEDE ANLAM (DUYGU BELİRTEN İFADELER) 195			
• YAZIM KURALLARI			
(BÜYÜK HARFLERİN KULLANIMI)	197		
• YAZIM KURALLARI (EKLERİN YAZIMI-			
SAYILARIN YAZIMI)	199		

Kök: Sözcüklerin anlamlı en küçük parçalarına **kök** denir. Sözcükler, isim ve fiil olmak üzere iki kökten türetilir.

Örnek: “Bilim, umut, silgi, satıcı” sözcüklerinin kökleri “bil-, um-, sil-, sat-” fiilleridir.

Örnek: “Yaşıt, başlık, işçi, gözlem” sözcüklerinin kökleri “yaş, baş, iş, göz” isimleridir.

Ek: Sözcüklere getirilen anlamsız ses parçalarına **ek** denir. Sözcüklere gelerek onlardan yeni sözcükler oluşturan eklere **yapım eki**, sözcüklerin birbiriyle uyumlu bütünlükler oluşturmasını sağlayan eklere ise **çekim eki** denir.

Çokluk Eki (-lar/-ler)

Örnek: İnsanlar, böyle evlerde oturmak istemiyor.

İyelik Ekleri

- Bir varlığın ya da kavramın kime ya da neye ait olduğunu bildiren eklere **iyelik eki** denir. İyelik ekleri altıya ayrılır:

Birinci Tekil Kişi İyelik Eki (-m/-ım/-im/-um/-üm): (benim) arabam, kitabım, evim, okulum, öyküm...

İkinci Tekil Kişi İyelik Eki (-n/-ın/-in/-un/-ün): (senin) masan, sırtın, boyun, gözlüğün...

Üçüncü Tekil Kişi İyelik Eki (-ı/-i/-u/-ü): (onun) adı, dileği, kolu, sözü...

Birinci Çoğul Kişi İyelik Eki (-mız/-miz/-muz/-müz/-ımız/-imiz/-umuz/-ümüz): (bizim) odamız, kedimiz, ordumuz, ütümüz, ormanımız, kişiliğimiz, oyunumuz, bölüğümüz...

İkinci Çoğul Kişi İyelik Eki (-nız/-niz/-nuz/-nüz/-ınız/-iniz/-unuz/-ünüz): (sizin) odanız, bilginiz, uykunuz, öykünüz, sınıfınız, eviniz, okulunuz, sözünüz...

Üçüncü Çoğul Kişi İyelik Eki (-ları/-leri): (onların) sorunları, cümleleri...

Soru Eki (mı / mi / mu / mü): Bu ek, daima ayrı yazılır. Bu ekten sonra gelen ekler ise bu ekle bitişik yazılır.

Örnek: Onlar bu saatte evlerinde **midir**?

TEST 1



Çözümler için
karekodu okutunuz

1. Aşağıdaki altı çizili kelimelerden hangisi iyelik eki almıştır?

- A) Bugün aklıma geldin.
B) O günleri hiç unutmadım.
C) O yılları hatırladım.
D) Kısacası ondan da soğudum.

2. Aşağıda isim köklü ve fiil köklü sözcükler sınıflandırılırken bir yanlışlık yapılmıştır.

İsim Köklü Sözcükler	Fiil Köklü Sözcükler
Kitaplık	Soru
Silgi	Yazı
Yazlık	Yorgun
Hisli	Yolcu

Buna göre hangi sözcükler yer değiştirirse bu yanlışlık giderilmiş olur?

- A) Silgi - Yolcu B) Hisli - Yolcu
C) Silgi - Soru D) Yazlık - Yorgun

3. (I) Konya'nın gölleri ve akarsuları, dünyanın en önemli tatlı su balığı yaşam alanlarından biri olmuştur. (II) Konya, balık çeşitliliğiyle dünya çapında çok önemli bir yere sahip. (III) Bu balıkların bazılarının boyları çok küçük olup bu türler en az kaplanlar ve pandalar kadar tehlike altındadır. (IV) Beyşehir sirazı, kızılkanat, yağ balığı ve kaya balığı bunlardan bazılarıdır.

Yukarıdaki cümlelerin hangisinde yüklem, kökü bakımından ötekilerden farklıdır?

- A) I B) II C) III D) IV

4. “Gecelerce uyumadığı için gözleri kan çanağı gibi olmuştur.”

“-ler” **çoğul eki bu cümledeki altı çizili sözcüğe aşağıdaki anlamlardan hangisini katmıştır?**

- A) Yaklaşıklık B) Abartma
C) Saygı D) Benzerlik

5. Onların evi yolumuzun karşı tarafındaydı.
Altı çizili sözcük sırasıyla, aşağıdaki çekim eklerinden hangilerini almıştır?
- A) Belirtme eki - İyelik eki
B) Tamlayan eki - İyelik eki
C) İyelik eki - Tamlayan eki
D) İyelik eki - Tamlanan eki
6. "Çocuk..... odadan oda koşuyor."
tümcesinin anlamlı olabilmesi için noktalı yerlere sırasıyla hangi çekim ekleri getirilmelidir?
- A) Bulunma hâl eki, ayrılma hâl eki
B) Ayrılma hâl eki, belirtme hâl eki
C) Çokluk eki, yönelme hâl eki
D) Yönelme hâl eki, çokluk eki
7. Aşağıda isimler ve aldıkları hâl ekleri eşleştirilirken bir yanlışlık yapılmıştır.
- | İsim | | Aldığı ek |
|-----------|---|------------------|
| Kalemnden | → | Ayrılma hâl eki |
| Akşama | → | Bulunma hâl eki |
| Nuru | → | Belirtme hâl eki |
| Ülkede | → | Yönelme hâl eki |
- Verilen eşleştirmenin doğru olması için hangi iki isim yer değiştirmelidir?**
- A) Kalemnden - Nuru
B) Akşama - Nuru
C) Akşama - Ülkede
D) Ülkede - Kalemnden
8. **Aşağıdaki cümlelerde altı çizili sözcüklerden hangisi iyelik eki almamıştır?**
- A) Akrabaları yurt dışında yaşıyor.
B) Yaşanacak yıllarımız olmalı diyorum.
C) Bebeğin gülmesi ona ayrı bir güzellik katıyordu.
D) Bugünün hayal kırıklıkları yarınla ilgili umutları yok eder.

9. Ali Öğretmen, öğrencilerinden şu özdeyişte yer alan isim köklü sözcüklerden üç tanesini bulmalarını istemiştir:

"Hayatın değeri, uzun yaşamasında değil, iyi yaşamasındadır. Öyle uzun yaşamışlar vardır ki pek az yaşamışlardır. Doyasıya yaşamak, yılların çokluğuna değil, sizin coşkuunuza bağlıdır." (Konfüçyüs)

Öğrencilerin cevapları şöyledir:

Tarık ► hayat, yaşamasında, çokluğuna

Murat ► yaşamak, vardır, bağlıdır.

Merve ► yılların, değil, sizin

Senem ► uzun, değeri, doyasıya

Doğru cevabı verenler aşağıdakilerden hangisidir?

- A) Tarık ve Merve
B) Murat ve Senem
C) Senem, Merve ve Murat
D) Tarık, Murat ve Merve

10. K Kaymakam Beyler, okulumuzun kurulmasına destek verdiler.
L Ayşeler, her gün kütüphanede kitap okurlar.
M Ali ve Ahmet'in dünyalar kadar kitabı var.
N Hanımefendilerin okumaya hiç vakitleri yokmuş.

K Saygı M Alay - sitem

L Benzerleri N Aile

Yukarıdaki cümlelerde verilen "-lar, -ler" çokluk eki cümlelere bazı farklı anlamlar katmıştır.

Buna göre hangi cümlenin karşısında yazan anlam doğrudur?

- A) K B) L C) M D) N

Hâl (Durum) Ekleri

1. Belirtme Hâli (-ı/-i/-u/-ü): Bu hâl ekini alan isimler, yükleme sorulacak “neyi, kimi” sorularından birine cevap verir.

Örnek: Bu romanı geçen ocak ayında okudum.

2. Yönelme Hâli (-a/-e): Bu hâl ekini alan isimler, yükleme sorulacak “neye, kime, nereye” sorularından birine cevap verir.

Örnek: Elimdeki çantaya uzun uzun baktı.

3. Bulunma Hâli (-da/-de/-ta/-te): Bu hâl ekini alan isimler, yükleme sorulacak “nede, kimde, nerede” sorularından birine cevap verir.

Örnek: En sevdiğim ayakkabım Alilerde kaldı.

4. Ayrılma (Uzaklaşma) Hâli (-dan/-den/-tan/-ten): Bu hâl ekini alan isimler, yükleme sorulacak “neden, kimden, nereden” sorularından birine cevap verir.

Örnek: İki yıl sonra biz de o kentten ayrıldık.

TEST 2

Çözümler için
karekodu okutunuz.

1. Aşağıdaki cümlelerin hangisinde altı çizili sözcük iyelik eki almamıştır?

- A) Edebi metnin kendine has bir dünyası vardır.
- B) Bir insan, vücuduna gösterdiği özeni ruh sağlığına da gösterebilirse enerjisi uzun süre devam edebilir.
- C) Her toplum kendi doğrusunu yanlışını bilmelidir.
- D) Bu yüzden güzellik ve çirkinlik hiçbir zaman değişmez.

2. Umutsuz günlerimde bir duman

I II

Yükselir göğe doğru

III

Yaralı bir gemi yavaş yavaş...

IV

Gömülür mahzun dalgalara.

Yukarıdaki parçada numaralandırılmış sözcüklerden hangisinin kökü, sözcük türü yönüyle farklıdır?

- A) I B) II C) III D) IV

3. Aşağıdakilerden hangisinde bulunma hâl eki almış bir sözcük yoktur?

- A) Çantamı arkadaşımın evinde unuttum.
- B) Babamı her zamankinden daha çok özlemiştim.
- C) Okuldaki kitaplarımı almaya gideceğim.
- D) Sende bıraktığım emanetleri getirir misin?

4. Çoğul eki (-lar/-ler), eklendiği isme çokluk anlamı dışında farklı anlamlar da katar. Bunlar: yaklaşıklık, saygı, her, aile.

Buna göre çoğul eki aşağıdaki cümlelerin hangisine sözü edilen anlamlardan birini katmamıştır?

- A) Biraz sonra yirmili yaşlarda bir genç, tekerlekli sandalyesiyle çıkageldi.
- B) Dağlar kadar iş birikmişken sen oturuyor musun?
- C) Aylin Hanımlar sizi görmek istiyor beyefendi.
- D) Dayımlar hafta sonu mangal için bize gelecekler.

5. Aşağıdaki seçeneklerin hangisinde altı çizili sözcük iyelik eki almıştır?

- A) Bazı filmleri normal sürelerinin üç dört katı bir zaman zarfında izlerim. Durdurur ekranda donan görüntüye bakmak, filmin nasıl ilerleyeceğini uzun uzun düşünmek, o sahne öylece camın üzerindeyken gündelik hayatıma devam etmek hoşuma gider.
- B) Suçlu gibi önüne bakıyordu şimdi. Sonra yeniden döndü cama. Dev suratının ortasında çırpınan küçücük, soru dolu gözleriyle hâlâ oradaydı adam.
- C) Evi aramak geldi aklına. Bir şey yoktu. Elle tutulur bir sebep yoktu yani. Ama uydururdu bahanesini.
- D) Öfke kontrolü, öfkelenmemek değildir. Öfkelenmemek aslında kendimize zarar veren bir davranıştır Öfke de diğer tüm duygular gibi insan doğasının bir parçasıdır.

6. Açar mis kokulu güzel çiçekler
I
Rengârenk menekşeler gelincikler
II
Pır pır uçuşur minik kelebekler
III
Yeşillenip de gelince ilkbahar
IV

Yukarıdaki numaralandırılmış sözcüklerden hangisi sadece çekim eki almıştır?

- A) I B) II C) III D) IV

7. Aşağıda isim köklü sözcükler ile fiil köklü sözcükler sınıflandırılırken bir yanlışlık yapılmıştır.

İsim Köklü Sözcükler	Fiil Köklü Sözcükler
Suluk	Saygı
Dişçi	Tuzlu
Şekersiz	Kalıcı
Yapıt	Dalgıç

Yukarıda verilen tabloda hangi sözcükler yer değiştirirse bu yanlışlık giderilmiş olur?

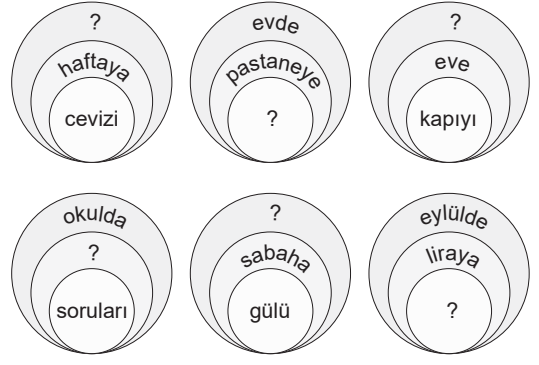
- A) Dişçi - Saygı B) Yapıt - Tuzlu
C) Şekersiz - Dalgıç D) Suluk - Kalıcı

8. • Hâl ekleri eklendiği sözcük ile cümleye yönelme, yaklaşma ve ulaşma anlamı katar.
• Hâl ekleri eklendiği sözcük ile cümleye bulunma anlamı katar.
• Hâl ekleri eklendiği sözcük ile cümleye belirtme anlamı katar.

Altı çizili sözcüklerin hangisinde, bu açıklamaların dışında bir anlam katan hâl eki vardır?

- A) Bütün kuşları sıraya dizseler biz herhalde sonuncu gelmeyiz.
B) Süleyman Ağa kendi köyünde hâlâ sözü geçen biriydi.
C) Ak sakallı ihtiyarın sakallarından yaşlar akarak yürüdüğünü gördü.
D) Kapak açılır açılmaz insanın yüzüne bir ateş topu isabet ediyordu sanki.

9.



Yukarıda belirtme, yönelme, bulunma hâl ekleri alan sözcüklere örnek verilmiştir.

Buna göre belirtme, yönelme ve bulunma hâl ekleri sırası dikkate alındığında her dairedeki boşluğa sırasıyla gelmesi gereken sözcükler hangileridir?

- A) dağda, bilgiyi, sonbaharda, soyu, güneşte, kargaya
B) otobüste, sezgiyi, kardeşimde, sepete, sınıfta, defteri
C) sende, evden, kitabımız, elmaları, kapının, çocukça
D) kedi, pencereyi, konuyu, tahtaya, Konya'da, hazıranda

10. 1. cümle: Çok beğendiği elbiseyi aldı.
2. cümle: Antalya'ya Isparta'dan gidelim.
3. cümle: Cem Beyler akşam bize gelecekler.
4. cümle: Tiyatroya kardeşim de gelmek istiyor.

1. cümlede "elbiseyi" kelimesindeki "i" iyelik ekidir.
2. cümlede "Isparta'dan" kelimesindeki "dan" ayrılma durum ekidir.
3. cümlede "Beyler" kelimesindeki "ler" çokluk ekidir.
4. cümledeki "de" eki bulunma durum ekidir.

Cümlelerle ilgili yukarıdaki açıklamalardan doğru olanların başına D, yanlış olanların başına Y getirildiğinde hangi seçenek ortaya çıkar?

- A) D B) Y C) Y D) D
Y D D D
D D Y Y
Y Y D Y

6.
SINIF

FEN BİLİMLERİ

EDİTÖR YAYINLARI

KONULAR

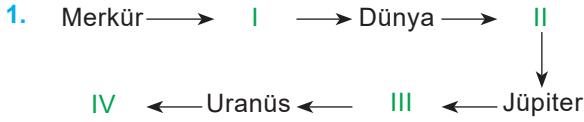
• GÜNEŞ SİSTEMİ	241
• METEORLAR - GÖK TAŞLARI - ASTEROİTLER	243
• GÜNEŞ VE AY TUTULMALARI	245
• DESTEK VE HAREKET SİSTEMİ	247
• SİNDİRİM SİSTEMİ	249
• DOLAŞIM SİSTEMİ	251
• SOLUNUM SİSTEMİ	253
• BOŞALTIM SİSTEMİ	255
• KUVVETİN ÖZELLİKLERİ	257
• BİLEŞKE KUVVET - DENGELENMİŞ VE DENGELENMEMİŞ KUVVETLER	259
• SÜRAT NEDİR?	261
• HAREKETLİNİN GRAFİĞİNİ ÇİZELİM	263
• MADDENİN TANECİKLİ YAPISI	265
• YOĞUNLUK	267
• MADDELERİN ISI İLETKENLİKLERİNE GÖRE SINIFLANDIRILIM	269
• ISI YALITIMI	271
• YAKITLAR	273
• SESİN YAYILMASI - SESİN FARKLI ORTAMLARDA FARKLI DUYULMASI	275
• SESİN YAYILDĞI ORTAMDAKİ SÜRATİ - ŞİMŞEK VE GÖK GÜRÜLTÜSÜ	277
• SES BİR ENERJİ TÜRÜ MÜDÜR? SES MADDE İLE KARŞILAŞINCA NE OLUR?	279
• SESİN YAYILMASINI ÖNLEYEBİLİR MİYİZ? - SES YALITIM TEKNOLOJİLERİ - AKUSTİK NEDİR?	281
• SINIR SİSTEMİ	283
• İÇ SALGI BEZLERİ	285
• ÇOCUKLUKTAN ERGENLİĞE GEÇİŞ - ERGEN SAĞLIĞI	287
• DENETLEYİCİ VE DÜZENLEYİCİ SİSTEMLERİN DİĞER SİSTEMLERLE DÜZENLİ VE EŞ GÜDÜMLÜ ÇALIŞMASI	289
• DUYU ORGANLARININ YAPILARI - KOKU ALMA VE TAT ALMA DUYULARI ARASINDAKİ İLİŞKİ	291
• DUYU ORGANLARINDAKİ KUSURLARIN GİDERİLMESİNDE KULLANILAN TEKNOLOJİLER - DUYU ORGANLARININ SAĞLIĞI	293
• SİSTEMLERİN SAĞLIĞI	295
• İLETKEN VE YALITKAN MADDELER	297
• AMPULÜN PARLAKLIĞINI DEĞİŞTİRELİM	299
• DİRENÇ NEDİR? - AMPUL DE BİR DİRENÇ	301

- Güneş, gezegenler, gezegenlerin uyduları ve diğer gök cisimlerinin oluşturduğu sisteme **Güneş Sistemi** denir.
- Bir yıldızın etrafında belirli bir yörüngede dolanan gök cisimlerine **gezegen** denir.
- Merkür, Venüs, Dünya, Mars, Jüpiter, Satürn, Uranüs ve Neptün Güneş Sistemi'nde bulunan gezegenlerdir.

TEST 1



Çözümler için
karekodu okutunuz



Yukarıda gezegenler Güneş'e olan uzaklıklarına göre sıralanmıştır.

Buna göre numaralandırılmış kısımlara aşağıdakilerden hangileri gelmelidir?

	I	II	III	IV
A)	Mars	Satürn	Venüs	Neptün
B)	Venüs	Mars	Satürn	Neptün
C)	Neptün	Satürn	Mars	Venüs
D)	Venüs	Neptün	Mars	Satürn

2. Hakan ödevi için gezegen kartı hazırlamıştır. Kartında yer alan bilgileri aşağıdaki gibi sıralamıştır.
- Çıplak gözle gözlenebilir.
 - Güneş sistemindeki en büyük gezegendir.
 - 70'ten fazla doğal uydusu vardır.

Buna göre Hakan'ın ödevi hangi gezegen ile ilgilidir?

- A) Jüpiter B) Venüs C) Satürn D) Merkür

3. Güneş Sistemi'nde yer alan Venüs ve Satürn gezegenleri ile ilgili;

- Venüs gezegeni "Çoban Yıldızı" olarak da bilinir.
- Satürn gezegeni Güneş sistemindeki en büyük ikinci gezegendir.
- Venüs gezegeni gazsal, Satürn gezegeni karasal bir gezegendir.


İfadelerinden hangileri doğrudur?

- A) Yalnız I B) I ve II C) II ve III D) I ve III

4. Bazı gezegenler ile ilgili şu bilgiler veriliyor:

- Belirgin halkaları olan gezegendir.
- Uranüs'ün ikizi olarak bilinir.
- Bir tane doğal uydusu vardır.
- Toprak renginden dolayı Kızıl Gezegen olarak bilinir.

Buna göre yukarıda hangi seçenekteki gezegene ait bir özellik verilmemiştir?



5. Gezegenler hakkında bilgi toplayan Elif, bu bilgileri sınıfa getirip arkadaşlarıyla paylaşıyor.

- Gezegenler bir yıldızın etrafında belirli yörüngelerde dolanan gök cisimleridir.
- Isı ve ışık yaymazlar.
- Gökyüzündeki konumları sabittir.
- Üzerlerine düşen ışığı yansıtırlar.

Öğretmenleri, Elif'in verdiği bilgilerin doğru olup olmadığını arkadaşlarına soruyor.

Berke: I. ifade doğrudur.

Betül: II. ve IV. ifade yanlıştır. Çünkü gezegenler ısı ve ışık kaynağıdır.

Belma: III. ifade yanlıştır. Gezegenlerin gökyüzündeki konumları değişir.

Burcu: I ve II. ifade yanlış, III ve IV. ifade doğrudur.

Elif'in arkadaşlarından hangilerinin yaptığı yorumlar doğrudur?

- A) Berke ve Betül B) Betül ve Burcu

- C) Berke ve Belma D) Belma ve Burcu

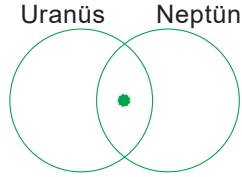
Özellikler	Gezegenler			
	X	Y	Z	T
En belirgin halkaya sahiptir.		✓		
Güneş'e en uzak gezegendir.			✓	
Çoban Yıldızı olarak bilinir.				✓
Üzerinde yaşamın olduğu tek gezegendir.	✓			

Yukarıdaki tabloda X, Y, Z ve T gezegenlerinin özellikleri verilmiştir.

Buna göre bu gezegenlerin isimleri aşağıdaki seçeneklerden hangisinde doğru verilmiştir?

	X	Y	Z	T
A)	Dünya	Satürn	Jüpiter	Mars
B)	Dünya	Jüpiter	Neptün	Venüs
C)	Mars	Satürn	Uranüs	Merkür
D)	Dünya	Satürn	Neptün	Venüs


7.



Yukarıdaki şemada Uranüs ve Neptün'e ait ortak özelliklerin yazıldığı • ile gösterilen kısma aşağıdakilerin hangisi yazılabilir?

- A) Karasal gezegenlerdir.
- B) Doğal uyduları yoktur.
- C) Gazsal gezegenlerdir.
- D) Aynı büyüklükteki gezegenlerdir.

8. Aşağıda yer alan gezegenlerden hangisi Güneş'e uzaklık bakımından 6., büyüklük bakımından 2. sırada yer alır?

- A)  Merkür
- B)  Satürn
- C)  Neptün
- D)  Mars

9. Aşağıdakilerden hangisi iç gezegendir?

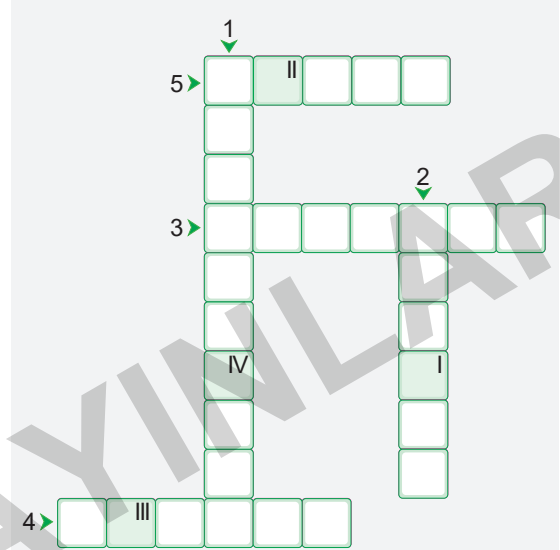
- A) Jüpiter
- B) Uranüs
- C) Satürn
- D) Dünya

- 10. • 20'den fazla uydusu vardır.
- Yüzeyi çok soğuktur.
- En büyük üçüncü gezegendir.

Yukarıda verilen bilgiler hangi gezegene aittir?

- A) Satürn
- B) Merkür
- C) Neptün
- D) Uranüs

11.



Sorular

1. Güneş sistemindeki son dört gezegene ne ad verilir?
2. Güneş'e en yakın ve en küçük gezegen hangisidir?
3. Jüpiter gezegeninin en büyük uydusuna ne ad verilir?
4. Büyüklük açısından üçüncü sırada yer alan gezegen hangisidir?
5. Üzerinde yaşam olan tek gezegen hangisidir?

Şifre

I	II	III	IV
---	----	-----	----

Yukarıda verilen bulmacadaki soruları cevaplandıran bir öğrenci numaralandırılmış kutucuklardaki harfleri doğru yerleştirdiğinde şifreye ulaşacaktır.

Buna göre bulmacadaki şifre aşağıdakilerden hangisidir?

- A) KÜRE
- B) KARE
- C) TANE
- D) KESE

- Uzayda başıboş dolaşan belli bir yörüngesi olmayan taşlara **meteor** denir.
- Dünya'ya ulaşan meteorlara **gök taşı** denir.
- Güneş etrafında dolanabilen kendi etrafında dönebilen gezegenlerden küçük kaya parçalarına **asteroit** denir. Mars ile Jüpiter gezegenleri arasında **Asteroit Kuşağı** bulunur.

TEST 2



Çözümler için
karekodu okutunuz

1.



1



2

Yukarıda verilen resimlerden birincisinde Dünya atmosferine girdiğinde sürtünmenin etkisiyle ısınıp yanan, ikincisinde atmosferde yanmayıp Dünya'ya ulaşan gök cisimleri verilmiştir.

Buna göre bu gök cisimlerinin isimleri aşağıdaki seçeneklerden hangisinde doğru olarak verilmiştir?

	1	2
A)	Asteroit	Meteor
B)	Meteor	Gök taşı
C)	Gök taşı	Yıldız
D)	Yıldız	Meteor

2. I. 2006 yılında cüce gezegen kategorisine alınmıştır.
II. Güneş sisteminin oluşumundan arta kalan kaya ve metal parçalarıdır.

Yukarıda verilen bilgiler hangi gök cisimlerini ifade etmektedir?

	I	II
A)	Plüton	Gök taşı
B)	Neptün	Meteor
C)	Plüton	Asteroit
D)	Uranüs	Gök taşı

3. **Asteroitlerle ilgili;**

- I. Küresel şekle sahip olan gök cisimleridir.
II. İç ve dış gezegenler arasındaki sınırı oluşturur.
III. Gezegenimsi gök cisimleri olarak da bilinmektedir.

yukarıda verilen ifadelerden hangileri doğrudur?

- A) I ve II B) II ve III C) Yalnız III D) I ve III

4.



Yukarıda bir gök cisminin yeryüzüne düşmesi sonucu oluşan bir çukurun görseli verilmiştir.

Buna göre yukarıdaki çukurun oluşmasına neden olan gök cismi aşağıdakilerden hangisidir?

- A) Meteor B) Asteroit
C) Gök taşı D) Gezegen

5.



Düzenli olarak her sene gerçekleşen meteor yağmurları bulunmaktadır. Bu yağmurlardan en çok bilineni Perseid

meteor yağmurudur. Güneş sisteminde başıboş şekilde dolaşan meteorların atmosferde yanması sonucu oluşan Perseid meteor yağmuru her yıl yaklaşık olarak 23 Temmuz - 20 Ağustos tarihleri arasında gerçekleşir. Perseus takımyıldızı bölgesinde gözlemlendiğinden bu adı almıştır. Perseid meteor yağmuru Dünya'nın yakınından geçen Swift - Tuttle kuyruklu yıldızından arta kalan kalıntılardan oluşur.

Yukarıda verilen açıklama dikkate alındığında Perseid meteor yağmuru ile ilgili;

- I. Perseus takımyıldızındaki yıldızlardan kopan parçalardan oluşur.
II. Perseid meteor yağmurları her yıl aynı dönemde gerçekleşir.
III. Perseid meteor yağmurları sonucu Swift - Tuttle kuyruklu yıldızı oluşmuştur.

ifadelerinden hangileri söylenebilir?

- A) Yalnız I B) I ve II
C) Yalnız II D) II ve III

6. Yapılarında demir, nikel gibi çeşitli maddeler bulunan, uzayda serbest hâlde dolaşan gök cisimlerine meteor denir.

Meteorlarla ilgili;

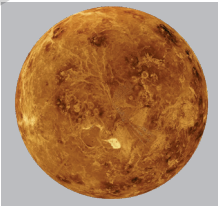
- I. Bir gezegenin etrafında belirli bir yörünge-
de dolanırlar.
- II. Dünya atmosferine girdiklerinde atmosferin
etkisiyle ısınıp akkor haline gelerek arkala-
rında ince bir ışık çizgisi bırakırlar.
- III. Atmosferden geçerken yanarak tükenmeyip
yeryüzüne ulaşabilen meteor parçalarına
gök taşı denir.

yukarıdaki ifadelerden hangileri doğrudur?


- A) I ve II B) I ve III
C) II ve III D) I, II ve III

7. Meteorlar atmosferden geçerken yanarak tü-
kenmeyip gök cisimlerinin yüzeyine çarpması-
yla bazı çukurluklar oluşturur. Bu çukurluklara
krater denilir.

Aşağıda Ay'ın ve Venüs'ün yüzeyinde koyu
renkle belirtilen alanlar kraterleri gösterir.



Venüs



Ay

**Buna göre Ay'da daha fazla krater olmasının
nedeni hangi seçenekte verilmiştir?**

- A) Venüs'ün gezegen Ay'ın uydu olması
B) Venüs'ün atmosferinin daha kalın olması
C) Ay'ın Dünya'ya en yakın gök cisimi olması
D) Venüs'ün karasal gezegen olması

8. Ela fen bilimleri dersinde asteroitlerle ilgili aşağı-
daki posteri hazırlıyor.

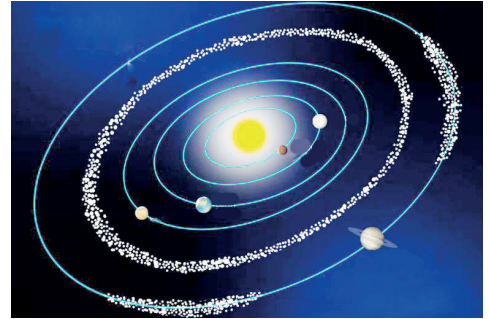


Öğretmeni Ela'ya posterdeki bilgilerden bir ta-
nesinin yanlış olduğunu söylüyor.

**Buna göre Ela posterde hangi bilgiyi nasıl
düzeltirse bilgilerin tamamı doğru olur?**

- A) I numaralı bilgiyi "Sadece kendi etrafında
dolanır." şeklinde değiştirmelidir.
B) II numaralı bilgiyi "Yapay uyduları vardır."
şeklinde değiştirmelidir.
C) III numaralı bilgiyi "İç ve dış gezegenler
arasında yer alır ancak gezegenler arasın-
da sınır oluşturmaz." şeklinde değiştirmelidir.
D) IV numaralı bilgiyi "Belirli bir şekilleri yok-
tur." şeklinde değiştirmelidir.

9. Fen bilimleri öğretmeni derste aşağıdaki gör-
seli öğrencilerine gösteriyor. Daha sonra öğ-
rencilerinden görselde yer alan asteroitlerle
ilgili yorumlar yapmalarını istiyor.



Aslı: Asteroit kuşağı Güneş Sistemi'nde iç ve
dış gezegenleri ayıran bir sınırdır.

Canan: Çoğunlukla Mars ve Jüpiter gezegenle-
ri arasında yer alan gök cisimleridir.

Asuman: Dünya atmosferine girerler ve hava sür-
tünmesi sonucunda ısınıp akkor hâline gelirler.

Zümrüt: Güneş Sistemi'nin oluşumundan geri-
ye kalan büyük kaya ve metal parçaları asteroit
kuşağını oluşturur.

**Buna göre hangi öğrencinin yaptığı yorum
yanlıştır?**

- A) Aslı B) Canan C) Asuman D) Zümrüt

6.
SINIF

SOSYAL BİLGİLER

EDİTÖR YAYINLARI

KONULAR

• SOSYAL ROLLERİN DEĞİŞİMİ	305
• KÜLTÜR VE TOPLUMSAL BİRLİKTELİK	307
• FARKLILIKLARA SAYGI DUYUYORUM	308
• YARDIMLAŞMA VE DAYANIŞMA	309
• SORUNLARA ÇÖZÜM BULUYORUM	310
• ORTA ASYA'DA KURULAN İLK TÜRK DEVLETLERİ .	311
• İSLAMİYET'İN YAYILIŞI – 1	313
• İSLAMİYET'İN YAYILIŞI – 2	315
• TÜRKLERİN İSLAMİYET'İ KABULÜ	317
• YENİ YURT ANADOLU	319
• İPEK VE BAHARAT YOLU	320
• COĞRAFİ KONUMU ÖĞRENİYORUM	321
• TÜRKİYE'NİN FİZİKİ COĞRAFYA ÖZELLİKLERİ .	323
• TÜRKİYE'NİN BEŞERİ COĞRAFYA ÖZELLİKLERİ .	325
• DÜNYA'DA İKLİM VE YAŞAM	326
• SOSYAL BİLİMLERİN TOPLUM HAYATINA ETKİSİ .	327
• GELECEKTEKİ YAŞAM	328
• BİLİMSEL ARAŞTIRMA BASAMAKLARI	329
• TELİF VE PATENT HAKKI	330
• KAYNAKLARIN ÜLKE EKONOMİSİNDEKİ YERİ . .	331
• KAYNAKLARIN BİLİNÇSİZ KULLANIMI	333
• YATIRIM VE PAZARLAMA	335
• VERGİMİ ÖDÜYORUM	336
• NİTELİKLİ İNSAN GÜCÜ	337
• MESLEĞİMİ SEÇİYORUM	338
• YÖNETİM BİÇİMLERİNİ ÖĞRENİYORUM	339
• YASAMA, YÜRÜTME VE YARGI	340
• YÖNETİMİN KARAR ALMA SÜRECİNE KATILIYORUM	341
• TOPLUMSAL HAYATIMIZDA DEMOKRASİNİN ÖNEMİ	342
• ANAYASAL GÜVENÇE ALTINDAYIZ	343
• TOPLUMSAL HAYATTA KADININ YERİ	344
• TÜRK CUMHURİYETLERİ VE KOMŞU ÜLKELERLE İLİŞKİLER	345
• ÜLKEMİZİN EKONOMİK İLİŞKİLERİ	346
• ÜLKEMİZİN ÜSTLENDİĞİ ULUSLARARASI ROLLER	347
• POPÜLER KÜLTÜR	348

- Bir grup etkinliğinde yer alan bireylerin üstlendikleri görevlere **rol** denir.
- Bir kişi birden fazla role sahip olabilir. Örneğin; Sinan Bey öğretmendir, evli ve iki çocuk babasıdır.
- İçinde yer aldığımız meslek grubunun gerektirdiği davranışlara ve kurallara uygun hareket etmeye **mesleki rol** denir.
- Mesleki rollere ilişkin beklentiler yazılı iken sosyal rollere ilişkin beklentiler ise yazılı değildir.

TEST 1



Çözümler için
karekodu okutunuz

1. Rol; toplumun bireyden, statüsüne uygun olarak beklediği davranışlara denir. Bir kişi hem öğretmen, hem sporcu hem de kulüp üyesi olabilir. Bir okulda müdürlük yapan biri evde müdürlük rolüne devam ederse ailesiyle sıkıntı yaşayabilir.

Buna göre;

- Bir kişi birden fazla role sahip olabilir.
- Bir kişi birden fazla role sahip olunca başarısız olur.
- Rol çatışması çeşitli sorunlara neden olabilir.
- Tek bir role sahip olmak toplumun gelişmesine katkı bulunur.

yukarıdaki ifadelerden hangileri doğrudur?

- A) I ve III B) I ve IV C) II ve IV D) II ve III

2. Derya Hanım, özel bir okulda öğretmenlik yapmaktadır. Hafta sonlarını ailesiyle kültürel faaliyetlere katılarak geçirmektedir. Ayrıca bir dernekte gönüllü olarak çalışmaktadır.

Derya Hanım ile ilgili olarak aşağıdakilerden hangisi söylenebilir?

- Herkes tarafından sevilir.
- Bir rol üstlenmiştir.
- Birden fazla rol üstlenmiştir.
- Grup etkinliklerine katılmıştır.

3. Sosyal bilgiler dersinde "Roller ve Gruplar" konusunu işleyen Ceylan Öğretmen öğrencilerine insanların sahip olduğu bazı rollerin doğuştan kazanıldığını söylemiştir.

Aşağıdakilerden hangisi doğuştan sahip olunan rollere örnek olarak verilebilir?

- Abi olmak
- Öğretmen olmak
- Başkan olmak
- Bakan olmak

4. **Mustafa Bey:** Sosyal bilgiler öğretmeni olarak bir okulda çalışmaktayım. Akşam eve geldiğimde eşimle birlikte yemek hazırladık, annemler bize gelecekti, çok mutluyduk. Çocuklarımız da o esnada ders çalışıyordu. Akşam olunca annem ve babam geldi, ailece güzelce yemeğimizi yedik.

Buna göre Mustafa Bey evde hangi rol içerisinde yer almamıştır?

- Baba
- Öğretmen
- Evlad
- Eş

5. Gruplarda herkesin görevleri olur. Bunların yerine getirilmesi önemlidir. İçinde bulunduğumuz gruplarda her grubun üyesinin görevleri farklılık gösterir. Bu görevleri bizim grup içinde üstlendiğimiz roller olarak ifade edebiliriz. Kendimizi düşünelim bulunduğumuz her grupta farklı rollerimizden söz edebiliriz. Örneğin; ailemizde çocuk, okulumuzda öğrenci, basketbol takımında oyuncu olabiliriz.

Yukarıdaki açıklamada vurgulanan temel düşünce aşağıdakilerden hangisidir?

- Rollerin gruplar arasında çatışmaya neden olduğu
- Kişilerin toplumda sahip olduğu rolleri bir anda edindiği
- Aldığımız rollerin toplumda bir öneminin olmadığı
- Herkesin içinde bulunduğu gruba göre bir rol sahibi olduğu

6. Bir grup etkinliğinde yer alan bireylerin üstlendikleri görevlere rol denir.

Aşağıda rol ile ilgili verilen bilgilerden hangisi yanlıştır?

- A) Zamanla sahip olduğumuz roller değişebilir.
B) Bireyler toplum içinde tek bir role sahiptir.
C) Bireylerin içinde buldukları rollerle kendilerinden beklenen davranış değişebilmektedir.
D) Sahip olduğumuz rollerin sorumluluklarını yerine getirmeliyiz.

7. Yer aldığımız rollerin sorumluluklarını yerine getirmeliyiz. Sorumluluklarımızı yerine getirerek başarılı ve mutlu bireylerin oluşmasına katkıda bulunuruz.

Aşağıdakilerden hangisi sorumluluklarımızdan biri değildir?

- A) Dengeli ve düzenli beslenmek
B) Çevremizi temiz tutmak
C) Sınıf kurallarına uymak
D) Odamızı temiz ve düzenli tutmak

8. Serdar Bey evde baba ve eş, anne-babasının yanında çocuk, okulda ise öğretmen rolüne sahiptir.

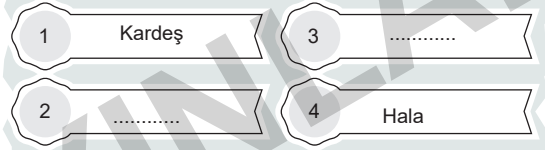
Yukarıdaki cümleyle bakılarak aşağıdaki yorumlardan hangisi yapılabilir?

- A) Serdar Bey aldığı rollerin sorumluluğunu yerine getirmemektedir.
B) Serdar Bey'in sorumluluklarını yerine getirmemesi toplumdaki dışlanmasına neden olmaktadır.
C) Serdar Bey'in birden fazla rolü vardır.
D) Serdar Bey'in öğretmen, eş ve çocuk olmaktan başka rolü yoktur.

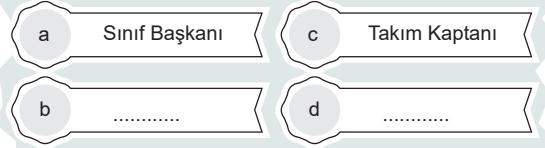
9.

Birey olarak dünyaya geldiğimiz andan itibaren çeşitli sosyal roller üstleniriz. Rollerimizin bir kısmı doğuştan sahip olduğumuz rollerdir. Bu roller biyolojik özelliklerimizden kaynaklanan herhangi bir ilgi ve yeteneği gerektirmeyen rollerimizdir. Bunları seçme imkânımız yoktur. Bazı rollerimiz de vardır ki bunlara kendi isteğimizle çalışarak, başarı göstererek sonradan sahip oluruz. Bunlar özgür irademizle katıldığımız grupların bize yüklediği rollerdir.

Doğuştan sahip olduğumuz roller



Sonradan sahip olduğumuz roller



Görselde verilen açıklama dikkate alındığında boşluklara aşağıdakilerden hangisi yazılamaz?

- A) (2) Torun B) (2) Dede
(3) Teyze (3) Dayı
(b) Öğretmen (b) Milletvekili
(d) Yönetici (d) Doktor
- C) (2) Yeğen D) (2) Yaşam koçu
(3) Babaanne (3) Terzi
(b) Basketbolcu (b) Amca
(d) Müdür yardımcısı (d) Anneanne

- Aynı toprak parçası üzerinde bir arada yaşayan ve temel çıkarlarını sağlamak için iş birliği yapan insanların tümüne **toplum** adı verilir.
- Bir topluma ya da millete kimlik kazandıran, diğer uluslarla arasındaki farkı belirlemeye yarayan, tarih boyunca meydana gelen ve kuşaktan kuşağa aktarılan her türlü gelenek, örf, dil, din, sanat, tarih ve mimari gibi o millete ait maddi ve manevi değerlerin tümüne **kültür** denir.

TEST 2



Çözümler için
karekodu okutunuz

1. İnsanoğlu dil ile düşünür dil ile hisseder; yaşadıklarını, düşündüklerini, hissettiklerini dilden yararlanarak başkalarıyla paylaşır. Bu yönüyle dil, millî kültürün ve kimliğin oluşmasında son derece önemli bir işlev üstlenir. Kültür ve sanat etkinlikleri, dil ile gerçekleştirilir. Tecrübeler, kültürel ürünler, bilimsel buluşlar; kuşaktan kuşağa dil ile aktarılır. Hiçbir dil, ilk ortaya çıktığı zamandaki hâlini aynen devam ettirmez. Her dil zamana ve dilin konuşulduğu coğrafyaya bağlı olarak birtakım değişikliklere uğrar. Dil, kültürü oluşturan öğelerin başında gelir. Dil olmadan diğer kültür unsurları meydana gelemez.

Buna göre dil ile ilgili olarak aşağıdaki yargılardan hangisine ulaşılamaz?

- A) Kültürü oluşturan tek unsurdur.
B) Kültürün taşıyıcısıdır.
C) Zamanla değişime uğrar.
D) Tecrübeler dil ile nesilden nesile aktarılır.

2.



Türkçe'nin topluma;

- I. millî kültürün korunması,
II. toplumsal birliğin sağlanması,
III. ulusal kültürün oluşması

katkılarından hangilerini sağladığı söylenebilir?

- A) Yalnız I B) I ve II C) II ve III D) I, II ve III

3. Türkiye, Orta Asya Türk Cumhuriyetleri ile olan ilişkilerini her geçen gün arttırmaktadır. Eskişehir Üniversitesinde yakın bir zamanda "Kazakistan ve Türkiye Arasında Tarihi ve Kültürel Bağlar" konferansı düzenlendi. Yaz aylarında "Hazar Şiir Akşamları" düzenlenerek Orta Asya Türk Cumhuriyetleri'nde yaşayan şairler ülkemize davet edilmektedir.

Orta Asya Türk Cumhuriyetleri ile aramızdaki bu ilişki aşağıdakilerden hangisine katkı sağlar?

- A) Ülkemiz ekonomik anlamda zenginleşir.
B) Ülkemize gelen şairler yeni yerler görmüş olur.
C) Kökeni Türk olan toplumlar arasında birlik ve beraberlik artar.
D) Türkiye ve Orta Asya Türk Cumhuriyetleri ekonomi alanında birbirlerini desteklerler.

4. Milleti, dolayısıyla kültürü meydana getiren unsurlardan biri olan tarih, bir milletin çağlar içindeki yürüyüşü ve görünüşüdür. Tarih mazi dir, fakat bu mazi bugünün ve dünün fertlerini millet içerisinde birbirine bağlayarak geleceğe taşır. Aynı millete mensup insanlar tarih sayesinde akrabalarının farkına varabilirler. Tarih bir milletin nereden gelip nereye gittiğini gösteren kültür unsuru olarak, o milletin hayatında önemli bir yer tutar.

Buna göre tarih ile ilgili;

- I. dün ile bugün arasında köprü olduğu,
II. insan hayatında önemli bir yere sahip olduğu,
III. kültürü oluşturan unsurlardan biri olduğu

yargılarından hangilerine ulaşılabilir?

- A) Yalnız I B) I, II ve III
C) Yalnız III D) II ve III

- İnsanlar toplumsal bir varlık olmalarından dolayı, hayatlarının her aşamasında sosyal çevreleriyle sürekli etkileşim içerisindedir. Kişiler hakkında yeteri kadar bilgiye sahip olmamak ön yargıya neden olabilmektedir.

Ön Yargı: Bir kimse veya bir şeyle ilgili olarak belirli şart, olay ve görüntülere dayanarak önceden edinilmiş olumlu ve olumsuz yargı ve peşin hükme denir.

- Empati kuramamak, karşımızdaki kişiyi yeterince tanımamak ve farklılıklara saygılı olamamak ön yargının sebeplerindedir.


Hoşgörü: Her şeyi anlayışla karşılayabilmek ve farklı olanı kabul etmektir.

TEST 3



Çözümler için
karekodu okutunuz

1.



Büşra: Arkadaşım karşı bankta da yer vardı, neden yanıma geldin?

Selin: Görmüyor musun? O farklı bir insan.

Büşra:

Yukarıdaki diyalogu Büşra aşağıdakilerden hangisiyle tamamlarsa Büşra'nın farklılıklara saygılı olduğu anlaşılır?

- A) Doğru söylüyorsun, onun rengi farklı.
- B) Olabilir. Ön yargılı olmamalıyız.
- C) Evet. O yüzden iyi ki yanıma geldin.
- D) O farklı bir ülkeden olduğu için onu yanıma almamalıyız.

2. Ön yargı; bir kişi ya da olaya ilişkin gerekli bilgiye sahip olmadan peşin bir karara varmış olma durumudur.

Ön yargı ile ilgili;

- I. İnsanları sınıflandırır.
- II. İnsanlar arasında uzaklık yaratır.
- III. Nefret ve düşmanlık duyguları oluşturur.
- IV. Toplumlara daha hızlı kalkındırır.

yukarıdakilerden hangileri söylenemez?


- A) I ve IV
- B) II ve III
- C) Yalnız IV
- D) I, III ve IV

3. Hoşgörü; kendi düşünce ve davranışlarıyla çelişse bile, başkalarının düşünce ve kanılarını özgürce dile getirmelerinden rahatsız olmama, onların geçerliliklerine karşı tepki göstermeme tutumudur.

Buna göre aşağıdakilerden hangisi hoşgörü tutumuna uygun bir davranış değildir?

- A) Emevilerin, Arap olmayanları kendi içlerine almaması
- B) Abbasilerin, Türkleri kendi kurumlarında devlet memurluklarına getirmesi
- C) Osmanlıların fethettikleri yerlerde kiliselere dokunmaması
- D) Türkiye'de isteyen kişinin, istediği dinin ibadetlerini yerine getirmesi

4.



Yukarıdaki görselde vurgulanan düşünce aşağıdakilerden hangisidir?

- A) Farklı düşüncede olmak eğitim seviyesini artırır.
- B) Ön yargı toplumsal uyumu sağlar.
- C) Ön yargı insanlar arasındaki bağı güçlendirir.
- D) Olaylar herkes tarafından farklı şekilde algılanabilir.

6.
SINIF

DİN KÜLTÜRÜ VE AHLAK BİLGİSİ

EDİTÖR YAYINLARI

KONULAR

• ALLAH'IN (C.C.) ELÇİLERİ: PEYGAMBERLER	351
• PEYGAMBERLERİN ÖZELLİKLERİ VE GÖREVLERİ	352
• PEYGAMBERLER İNSANLAR İÇİN EN GÜZEL ÖRNEKTİR.	353
• VAHİY VE VAHYİN GÖNDERİLİŞ AMACI.	354
• İLAHİ KİTAPLAR	355
• BİR PEYGAMBER TANIYORUM: HZ. ÂDEM (A.S.) - BİR DUA TANIYORUM: KUNUT DUALARI VE ANLAMI .	356
• NAMAZ İBADETİ VE ÖNEMİ	357
• NAMAZ ÇEŞİTLERİ	358
• NAMAZIN KILINIŞI	359
• BİR PEYGAMBER TANIYORUM: HZ. ZEKERİYA (A.S.) - BİR SURE TANIYORUM: FİL SURESİ VE ANLAMI .	360
• BAZI ZARARLI ALIŞKANLIKLAR.	361
• ZARARLI ALIŞKANLIKLARA BAŞLAMA SEBEPLERİ - ZARARLI ALIŞKANLIKLARDAN KORUNMA YOLLARI	362
• BİR PEYGAMBER TANIYORUM: HZ. YAHYA (A.S.)	363
• BİR SURE TANIYORUM: TEBBET SURESİ VE ANLAMI	364
• HZ. MUHAMMED'İN (SAV.) DAVETİ: MEKKE DÖNEMİ	365
• HİCRET	366
• HZ. MUHAMMED'İN (SAV.) DAVETİ: MEDİNE DÖNEMİ	367
• BİR SURE TANIYORUM: NASR SURESİ VE ANLAMI	368
• TOPLUMUMUZU BİRLEŞTİREN TEMEL DEĞERLER	369
• DİNÎ BAYRAMLAR, ÖNEMLİ GÜN VE GECELER . . .	370

Peygamber: Farsça bir kavramdır. Kelime olarak haberci, elçi anlamlarına gelmektedir. Dini bir kavram olarak ise Allah tarafından inanç esaslarını, ibadet biçimlerini, ahlak kurallarını, insanlara bildirmek, onlara iyiyi ve güzeli, açıklamakla görevlendirilmiş ve vahiyle desteklenmiş kişilere denir.

- Peygamberlik, Allah ile insanlar arasında dünya ve ahiretle ilgili ihtiyaçların gözetilmesi amacıyla yapılan elçilik görevidir. Bu elçilik görevine **nübüvvet** denir.
- Peygamberlere iman etmek inanç esaslarından biridir. İslam dini bütün peygamberleri tasdik eder.
- Kur'an-ı Kerim'de 25 peygamberin adı geçmektedir.

TEST 1



Çözümler için
karekodu okutunuz

1. Allahû Teala insanlara doğru yolu göstermek için peygamberler ve bu peygamberlere de kitaplar göndermiştir. Gönderilen peygamberler ve kitaplar insanlara Allah'ın rızasını nasıl kazanacaklarını açıklamışlardır.

Bu parçadan peygamberler ve ilahi kitaplarla ilgili aşağıdakilerden hangisine ulaşılabilir?

- A) İnsanlar için bir rahmettirler.
B) İnsanlara emir ve yasakları bildirirler.
C) Evrenin hangi amaçla yaratıldığını açıklarlar.
D) Güzел ahlakla ilgili öğütleri verirler.

2. Peygamberler, insanları hak yola, doğru yola davet etmek için gönderilen elçilerdir. Onlar, insanlara Allah'ı tanıtmış, inanç esaslarını ve ibadet şekillerini öğretmişlerdir. İlk peygamber Hz. Adem (a.s), son peygamber ise Hz. Muhammed (sav.)'dir. Hz. Muhammed'e (sav.) Kur'an-ı Kerim, Hz. Adem'e (a.s) ise suhuf gönderilmiştir.

Parçadan hareketle aşağıdakilerden hangisine ulaşamaz?

- A) Peygamberlerin insanları tevhid inancına çağırdığına
B) Peygamberlerin insanları doğru yola ilettiğine
C) Her peygambere kitap indirildiğine
D) İbadet şekillerini peygamberlerin insanlara öğrettiğine

3. Allah çeşitli zamanlarda peygamberler göndermiş, insanlara doğru yolu öğretmiştir. Bu peygamberler çeşitli isimlerle anılmıştır.

Buna göre aşağıdakilerden hangisi bu isimlerden biri değildir?

- A) Elçi B) Nebi C) Resul D) Hüda

4. “De ki: Ben, yalnızca sizin gibi bir beşerim. (Şu var ki) bana, İlah'ınızın, sadece bir ilah olduğu vahyolunuyor...”

(Kehf suresi, 110. ayet)

Yukarıdaki ayete göre peygamberleri diğer insanlardan ayıran en temel fark aşağıdakilerden hangisidir?

- A) Vahiy almaları B) Ölümlü olmaları
C) Yiyip - içmeleri D) Evlenmeleri

5. Tabloda “Peygamberler” ile ilgili bilgiler verilmiştir. 6-A sınıfı öğrencilerinden Ahsen doğru olan bilgileri “D”, yanlış olan bilgileri “Y” şeklinde değerlendirmiştir.

	D	Y
Kendisine yeni bir ilahi kitap gönderilen peygamberlere resul denir.	<input checked="" type="radio"/>	<input type="radio"/>
Hz. Elyesa (a.s.), peygamber olduğu kesin olarak bilinmeyen bir peygamberdir.	<input type="radio"/>	<input checked="" type="radio"/>
Gönderilen tüm peygamberlerin adı Kur'an-ı Kerim'de geçmektedir.	<input checked="" type="radio"/>	<input type="radio"/>
Peygamberlere iman, inanç esaslarından biridir.	<input checked="" type="radio"/>	<input type="radio"/>
Peygamberler kendilerinden önce gelenleri tasdik ettikleri gibi kendilerinden sonra gelecekleri de müjdelemişlerdir.	<input type="radio"/>	<input checked="" type="radio"/>

Ahsen bu etkinlikte doğru cevap verdiği her ifade için (+20), yanlış cevap verdiği her ifade için de (-10) puan alacaktır.

Buna göre Ahsen toplam kaç puan almıştır?

- A) 10 B) 40 C) 70 D) 100

- Peygamberler insanları hak yola, doğru yola davet etmek için gönderilen elçilerdir. Onlar insanlara Allah'ı tanıtmış, inanç esaslarını ve ibadet şekillerini öğretmişlerdir.
- Yüce Allah'ın görevlendirdiği peygamberlerin taşıdığı özelliklere peygamber sıfatları denilir.
- Peygamberlerin sıfatları; sıdk, emanet, tebliğ, fetanet ve ismet olmak üzere beş tanedir.

Sıdk: Doğru olmak demektir.

Emanet: Güvenilir olmak demektir.

Fetanet: Akıllı ve zeki olmak demektir.

İsmet: Günahattan uzak olmak, günah işlememektir.

Tebliğ: İlahi mesajı insanlara olduğu gibi açıklamak demektir.

TEST 2



Çözümler için
karekodu okutunuz

1. Peygamberlerin vahiy almalarının yanında birtakım ortak özellikleri de vardır. Peygamberler hayatları boyunca doğruluktan ayrılmamışlardır. Peygamberlerin bu özelliği Kur'an-ı Kerim'de birçok ayette zikredilmektedir. Bu ayetlerden birinde "Kitapta İbrahim'i de an. O dosdoğru bir nebidi." (*Meryem suresi, 41. ayet*) buyrulmaktadır.

Yukarıdaki parçada peygamberlerin hangi özelliği üzerinde durulmuştur?

A) Emanet B) İsmet C) Fetanet D) Sıdk

2. • "Gerçek şu ki biz Nuh'u kavmine elçi olarak gönderdik: Ben sizin için açık bir uyarıcıyım. Allah'tan başkasına tapmayın! Çünkü ben, başınıza gelecek can yakıcı bir günün azabından korkuyorum." (*Hud suresi, 25-26. ayetler*)
• "Kitapta İdris'i de okuyarak an. Hakikaten o pek doğru bir insandı ve bir peygamberdi." (*Meryem suresi, 56. ayet*)

Yukarıda verilen iki ayette sırasıyla peygamberlerin hangi özelliklerinden bahsedilmiştir?

A) Fetanet - İsmet B) Tebliğ - Sıdk

C) Emanet - Fetanet D) Sıdk - İsmet

3. Hz.Musa (a.s.) peygamber olmadan önce Şuayb'ın (a.s) iki kızından biri şöyle demiştir: "Babacığım onu ücretle tut. Herhâlde ücretle tuttuklarının en hayırlısı, güçlü ve güvenilir olan bu adam olacaktır. dedi."

(*Kasas suresi, 26. ayet*)

Bu ayette peygamberlerin hangi özelliği vurgulanmaktadır?

A) Fetanet B) İsmet C) Emanet D) Tebliğ

4. • "Şuayb peygamber kavmine şöyle uyarıda bulunmuştur. Ölçüyü tastamam yapın (insanların hakkını kesmeyin), eksik verenlerden olmayın. Doğru terazi ile tartın. İnsanların hakkı olan şeyleri eksiltmeyin." (*Araf suresi, 85. ayet*)
• Hz. Muhammed (sav.) bir hadisinde şöyle buyurmuştur: "Birbirinize buğz etmeyin (kin gitmeyin), birbirinize haset etmeyin, birbirinize sırt çevirmeyin." (*Hadis-i Şerif*)

Yukarıda verilen ayet ve hadisten hareketle çıkarılabilecek ortak yargı aşağıdakilerden hangisidir?

A) Peygamberler insanlar içinden seçilmişlerdir.

B) Bütün peygamberler doğruluğu ilke edinmişlerdir.

C) Peygamberler Allah'ın izni ile mucize göstermişlerdir.

D) Bütün peygamberler insanları iyiliğe doğruğa ve güzele yönlendirmişlerdir.

5.

I
Temiz kalbi olanın
Alnı pak olur elbet
Günahı olmayanın
Adı nebidir elbet

II
Vahiy bir mesuliyet
Allah'la kul arasında
Nebiye düşen elbet
Duyurmaktır aynııyla

Yukarıda verilen şiirler dikkate alındığında sırasıyla peygamberlerin sıfatlarından hangileri vurgulanmıştır?

	I	II
A)	Sıdk	Emanet
B)	Fetanet	Tebliğ
C)	Emanet	Fetanet
D)	İsmet	Tebliğ

- Peygamberler Allah'ın ilahi mesajlarını insanlara bildirmek üzere insanlar arasından seçilen kimselerdir.
- Peygamberlerin insanlar arasından seçilmeleri insanların onlara örnek olmalarını kolaylaştırmıştır.
- Dini en iyi anlayan ve uygulayan kişiler peygamberlerdir. Bizler de dini anlama ve uygulama konusunda onları örnek almalıyız.
- Tüm peygamberler üstün şahsiyetlerle donatılmış örnek kişilerdir.

TEST 3



Çözümler için
karekodu okutunuz

1. İslam'ın inanç esaslarından biri de peygamberlere inanmaktır. Allah'ın sözlerini bizlere ulaştıran peygamberlere inanmak, Allah'a inanmanın gereğidir. Allah insanları hiçbir zaman yalnız ve başıboş bırakmamış, tarih boyunca birçok peygamber göndererek onlara doğru yolu göstermiştir. Peygamberler, insanları Allah'a ve onun belirlediği ilkelere inanmaya çağırmışlardır. Bu elçiler hak, adalet, iyilik ve güzelliği öğütlemiştir. Kötülük ve haksızlık gibi davranışlardan sakınmaya davet etmişlerdir.

Verilen parçadan hareketle aşağıdakilerden hangisi söylenemez?

- A) Allah insanları doğru yola iletmek için peygamberler göndermiştir.
B) Peygamberler Allah tarafından gönderilen insan üstü varlıklardır.
C) Peygamberlere iman İslam dininin bir gereğidir.
D) Peygamberler Allah'ın emir ve yasaklarını ileten elçilerdir.

2. Din kültürü ve ahlak bilgisi öğretmeni Burak Bey, bugünkü konuyla ilgili şunları söylemiştir: "Peygamberler, insanlar için en güzel örnektir." Daha sonra öğrencilerinden peygamberleri örnek alan kişilerin nasıl davranışlar sergilediklerini sormuştur.

Buna göre öğrencilerden hangisi yanlış cevap vermiştir?

- A) Eda: İhtiyaç sahiplerine yardımcı olur.
B) Ercan: Kamu malını bilinçsizce kullanır.
C) Haluk: Yaşlı, hasta ve engellilere otobüste yer verir.
D) Alper: Zorluklara karşı sabırlı olur.

3. Peygamberlerin görevlerinden biri de insanlara örnek olmaktır. Allah'ın elçileri olan peygamberler inançta, ibadette, ahlakta insanlara örnek ve önder olmuşlardır. Samimi inançlarıyla, inançları uğrunda yaptıkları mücadelelerle Allah yolunda çektikleri sıkıntılarla, yaşayışlarıyla, üstün ahlâki özellikleriyle insanlara rehberlik etmişlerdir.

Parçaya göre;

- I. "...Seni bütün eksikliklerden uzak tutarız. Senin bize öğrettiklerinden başka bizim hiçbir bilgimiz yoktur." (*Bakara suresi, 32. ayet*)
II. "Gündüzün iki ucunda, gecenin de ilk saatlerinde namaz kıl. Çünkü iyilikler kötülükleri giderir." (*Hud suresi, 114. ayet*)
III. "Andolsun Allah'ın resulünde sizin için; Allah'a ve ahiret gününe kavuşmayı uman, Allah'ı çok zikreden kimseler için güzel bir örnek vardır." (*Ahzap suresi, 21. ayet*)

yukarıda verilen ayetlerden hangileri bu açıklamalarla aynı doğrultudadır?

- A) Yalnız I B) I ve II C) Yalnız III D) I, II ve III

4. PEYGAMBERLERİN ÖRNEK DAVRANIŞLARI

1. "...Gerçekten biz Eyüb'ü sabırlı bir kul bulmuştuk. O ne iyi bir kuldu. O daima Allah'a yönelirdi." (*Sad suresi, 44. ayet*)

2. "(Resulün) kitapta Musa'yı da an. Gerçekten o ihlas sahibi idi ve hem Resul hem de Nebi idi." (*Meryem suresi 51. ayet*)

3. "Kitapta İdris'i de an. Hakikaten o pek doğru bir insan, bir peygamberdir." (*Meryem suresi, 56. ayet*)

Yukarıda verilen ayetler dikkate alındığında kaç numaralı ayetler peygamberlerin örnek davranışlarıyla ilgilidir?

- A) Yalnız 1 B) Yalnız 3 C) 1 ve 2 D) 1, 2 ve 3

Vahiy: Allah'ın peygamberler aracılığıyla gönderdiği mesajlara denir.

- Allah insanlara mutlu olmaları ve birbirleriyle iyi geçinmeleri için onlara yol göstermiş ve onlara yardımcı olması için ilahi kitaplar göndermiştir.
- İlahi kitaplar erdemli ve ahlaklı yaşamının ilkelerini öğretir. Allah insanların iki cihan saadetine kavuşmalarını amaçlamıştır.

TEST 4



Çözümler için
karekodu okutunuz

1. Aşağıdakilerden hangisi ilahi kitapların gönderiliş amaçlarından biri değildir?

- A) Allah'ın emir ve yasaklarını insanlara iletmek
- B) İnsanlara ahlaki öğütler vermek
- C) İnsanlara ahiretle ilgili bilgiler vermek
- D) İnsanların tarih ve coğrafya konusundaki bilgilerini geliştirmek

2. “Biz her peygamberi kendi kavminin diliyle gönderdik ki onlara Allah'ın emirlerini açık açık anlatsın. Bundan sonra Allah dilediğini sapkınlık içinde bırakır, dilediğini de doğru yola iletir. O güçlüdür, hakim ve hikmet sahibidir.”

(İbrahim suresi, 4. ayet)

Buna göre;

- I. Yüce Allah, insanların emir ve yasaklarına uymalarını istemiştir.
- II. Her ümmete Allah'ın mesajını tebliğ eden peygamberler gönderilmiştir.
- III. Peygamberler gönderildikleri kavimlerin diliyle ilahi vahyi açıklamışlardır.

verilenlerden hangilerine ulaşılabilir?

- A) Yalnız III B) I ve II C) II ve III D) I, II ve III

3. Vahiy sözlükte, gizli konuşma ve süratli olarak bildirme anlamlarına gelir. Terim anlamı ise peygamberler aracılığıyla insanlara iletilen, ilahi bilgi ve bu bilginin gönderiliş tarzıdır. Allah kullarına bildirmek istediği her şeyi vahiy yoluyla bildirmiştir. Allah'ın gönderdiği her mesaj vahiydir.

Buna göre;

- I. Vahyin gönderiliş amacı nedir?
- II. Vahyin kelime anlamı nedir?
- III. Vahiy getirmekle görevli melek kimdir?

yukarıda verilen sorulardan hangilerine ait cevaba parçadan ulaşılabilir?

- A) Yalnız II B) I ve II C) II ve III C) I, II ve III





4. Yüce Allah insanların akıllarını kullanıp doğru yolu bulmaları ve hakka uymaları için insanlık tarihinin her döneminde vahiy göndermiştir. O kullarını hiçbir dönemde sahipsiz bırakmamış gönderdiği peygamberler ve vahiylerle onları sürekli uyarmıştır.

Buna göre aşağıdaki ayetlerden hangisi bu konuyla aynı doğrultudadır?

- A) “Namazı dosdoğru kılın, zekâtı verin. Kendiniz için her ne iyilik işlemiş olursanız Allah katında onu bulursunuz. Şüphesiz Allah bütün yaptıklarınızı görür.” (Bakara suresi, 110. ayet)
- B) “Muhammed ancak bir peygamberdir. Ondan önce de peygamberler gelip geçmiştir. Şimdi o ölür veya öldürülürse gerisin geriye eski dininize mi döneceksiniz?..” (Âl-i İmran suresi, 144. ayet)
- C) “Andolsun ki biz, düşünüp öğüt alsınlar diye, sözü (vahyi) birbiri ardınca yetiştirmişizdir (aralıksız göndermişizdir).” (Kasas suresi, 51. ayet)
- D) “Ey iman edenler! Cuma günü namaza çağrıldığınız zaman hemen Allah'ı anmaya koşun ve alışverişi bırakın...” (Cuma suresi, 9. ayet)

5. İlahi vahyin gönderiliş amaçlarından biri de insanı ibadete, güzel davranışlara, hayırlı amelere yönlendirmektir. Yeryüzünde hayrın hâkim kılınmasını, şerrin de ortadan kaldırılmasını sağlamaktır. Dolayısıyla Yüce Allah göndermiş olduğu vahiyyle güzel ahlak ve davranışların yapılmasını öğütler.

Buna göre aşağıdaki görsellerden hangisi vahyin teşvik ettiği davranışlardan biri değildir?

- A) 
- B) 
- C) 
- D) 

GRADE
6

ENGLISH

EDİTÖR YAYINLARI

UNITS


• LIFE	373
• YUMMY BREAKFAST	375
• DOWNTOWN	377
• WEATHER AND EMOTIONS	379
• AT THE FAIR	381
• OCCUPATIONS	383
• HOLIDAYS	385
• BOOKWORMS	387
• SAVING THE PLANET	389
• DEMOCRACY	391

TEST 1



Çözümler için
karekodu okutunuz


1 - 7: For these questions, choose the best option to fill in the blanks.

1.  What do you do after school?

I go back home. I
and then I do my homework.




- A) arrive at school B) listen to my teacher
C) get on the bus D) take a nap

2.  Do you help your mother with the housework after school?


No, I don't. On weekdays, I'm very busy, but my weekends are usually free. So,



- A) I help her only at weekends
B) I do my homework regularly
C) I have lunch with my parents
D) I hate spending time in the kitchen

3.  Every weekday, Steve attends his first class at half past eight. He is a hardworking student.


- A) He never comes to school on time.
B) He usually speaks during the lesson.
C) He rarely does his homework.
D) He always listens to his teacher carefully.

4.  After school, Jamie rests for a while and then she goes to the library.


- A) She does her homework there.
B) She takes an English course.
C) She goes out with her friends.
D) She runs errands at home.

5. Jason is a secondary school student. He (1) early in the mornings. He (2) home at quarter past eight. He doesn't (3) to school by bus.

- | | 1 | 2 | 3 |
|----|---------|--------|------|
| A) | gets up | leaves | goes |
| B) | get up | leave | goes |
| C) | get up | leaves | go |
| D) | gets up | leaves | go |


6.  Hi, I'm Nancy. I get up early (1) morning. I go to school (2) eight o'clock. I come home and finish all my homework after school. Then I have dinner with my family. After dinner, I brush my teeth and go to bed ... (3) the evening.

- | | 1 | 2 | 3 |
|----|-------|-------|----|
| A) | every | in | at |
| B) | every | at | in |
| C) | on | every | in |
| D) | in | at | on |

7.  I want to have a big party after finishing all my exams.

27 September 2021.



 That's great. We can have a lot of fun at the party three days later.

- A) What is the date today?
B) What is the day today?
C) What time is it?
D) What do you do on weekdays?

8. (I) On weekdays, I leave school at half past three. (II) I arrive at home at around four o'clock. (III) I write my diary before I go to bed. (IV) Before dinner, I rest until quarter to five and I finish all my homework.

Which sentence is not suitable for the meaning of the text?

- A) I B) II C) III D) IV

9. **Tommy:** What time does your brother go to bed?

Riley: At half past nine on weekdays and at ten o'clock at weekends.

Which one cannot we use to complete the dialogue?

- A) usually B) generally
C) sometimes D) normally

10.



My brother, Brian is a student at a high school. He is a clever boy. He likes playing chess after school, so

Complete the blank with the best option.

- A) he goes to his football training
B) he finds this game very boring
C) he never takes chess courses
D) he attends chess club

11.

Hello! My name is Juliet. I love animals. I have a dog. His name is Rocket. I take care of him at home. On weekdays, I like spending time with him. He is my best friend.

Find the suitable option for the blank.

- A) I'm not responsible for feeding him
B) he doesn't need my help for going out
C) I never play with him in my spare time
D) I take him for a walk in the park

Answer the questions (12-13) according to Dylan's diary.

Monday	have a guitar course
Tuesday	play basketball
Wednesday	take the dog for a walk
Thursday	attend a folk dance course
Friday	visit grandparents
Saturday	meet friends
Sunday	help parents with the housework

12. Which of the following option cannot we say according to his diary?

- A) He runs errands at home on the last day of the week.
B) He does sports on the second day of the week.
C) He never takes care of the dog during the week.
D) He plays a musical instrument on the first day of the week.

13. We can understand from his diary that

- A) he is not interested in learning a folk dance
B) he spends time with his friends at the weekends
C) he visits his relatives every weekday after school
D) he never plays team sports and goes to courses

14.

THEIR MORNING ROUTINES	
SALLY	PETER
Job: teacher	Job: doctor
get up: 6.30	get up: 7.00
have breakfast: 6.45	take a shower: 7.15
tidy her room: 7.10	have breakfast: 7.20
leave home: 7.30	go to work: 8.00


According to the information above, which option is correct?


- A) Peter wakes up earlier than Sally in the mornings.
B) They have breakfast at the same time.
C) Sally tidies her room before half past seven.
D) Peter leaves home after eight o'clock every morning.

TEST 1



1 - 8: For these questions, choose the best option to fill in the blanks.

1.  Would you like some fruit salad?

..... I love fruit salad. 

- A) No, thanks. B) Yes, please.
- C) Thanks, but I'm full. D) No, it's all gone.

2. Emma: ?

Susan: It is sushi. I eat it twice a week.

Emma: Really? I love it, too.

- A) Would you like to eat sushi
- B) Do you like sushi
- C) What is your favorite food
- D) What is your traditional breakfast like

3. Hi! I'm Noah. I'm a 6th grade student. I wake up at 7 o'clock in the mornings. I have cheese, olives, eggs, honey, tomatoes and cucumbers for breakfast because they are nutritious. I never drink tea or coffee at breakfast. I prefer milk. At weekends, I sometimes have pancakes with orange juice.

According to the text, Noah


- A) has breakfast at home only on weekdays
- B) doesn't like having vegetables for breakfast
- C) thinks pancakes and orange juice are healthy
- D) prefers drinking milk to coffee or tea at breakfast


4. Waiter: Good morning, sir. Welcome to Sunshine Cafe. What would you like to have for breakfast?
Bobby: I'd like to have honey, butter and cheese with bagels.

Waiter: Sorry, but they're all gone.

Bobby: No, thanks. I think they aren't healthy.

- A) Would you like to have cereal with milk?
- B) Do you want a croissant with coffee?
- C) How about having some olives and tomatoes?
- D) Do you want to eat eggs and cucumbers?

5. 


I usually have fried eggs with cheese and I drink fresh orange juice. 


- A) Would you like to eat fried eggs with orange juice?
- B) Do you want some orange juice?
- C) What do you usually have for breakfast?
- D) How many eggs would you like to fry?

6. David: I think I am getting hungry. Let's eat something.

Ashley: I'm not hungry.

- A) Yes, I like it.
- B) No, thank you.
- C) Yes, please.
- D) Let's have breakfast.

7.  How can I help you, madam?

I'd like to buy some sugar. 

..... ?

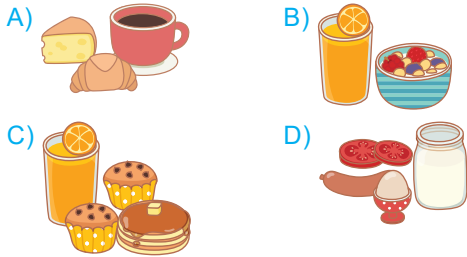
Two kilos, please. 


- A) Can I have some sugar, please
- B) How much sugar would you like
- C) Would you like anything else
- D) Do you want to drink something

8. **Rose:** What type of food is chips?
Wilma: It's junk food.
Rose: I never eat junk food because
- A) it's good for health B) it's very delicious
 C) it's not good for health D) it's very nutritious

9. My name is Sonia. I have pancakes and fruit juice for breakfast. I sometimes eat muffins.

Which picture shows Sonia's breakfast?



10.  Hello, I'm David from Britain. I want to talk about the breakfast habit of my country. In my country, we have eggs, sausages, mushrooms and baked beans for breakfast. We also like tea with milk at breakfast.

Which one is **false** according to the text?

- A) David gives information about the traditional British breakfast.
 B) British people like eating sausages and eggs at breakfast.
 C) Drinking tea with milk is a breakfast habit for British people.
 D) Like all British people, David doesn't usually have breakfast.

11. **Abby:** Do you like cereals?

Simon: No, I don't.

Abby: What do you like for breakfast?

Simon: I like sausages and chips with coffee. What about you?

Abby: I like eggs, honey, butter, tomatoes and cucumbers. I drink tea with milk.

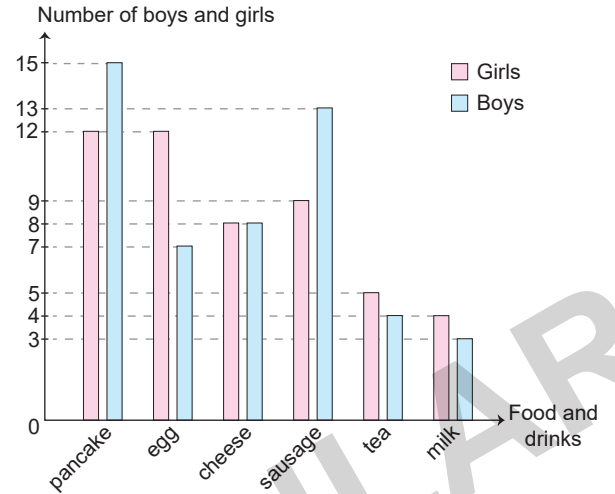
According to the dialogue above,

- A) Simon has a healthy eating habit
 B) Abby eats vegetables at breakfast
 C) they prefer the same drink for breakfast
 D) Simon never eats unhealthy food at breakfast

Answer the questions (12 - 13) according to the graphic and the information below.

A research company asked 50 girls and 50 boys about their favourite food and drinks for breakfast.

Here are the results:




12. According to the results, we can say that

- A) boys like having cheese at breakfast more than girls
 B) the same number of boys and girls like drinking milk
 C) girls have pancakes with tea at breakfast more than boys
 D) boys like eating sausages and pancakes more than girls

13. Which of the following option is **not** correct according to the results?

- A) Girls and boys have sausages for breakfast less than pancakes.
 B) Girls like having eggs with tea at breakfast more than boys.
 C) Pancake is the most preferred food for breakfast among boys.
 D) Boys prefer cheese and milk for breakfast more than girls.



İvedik Organize Sanayi Matbaacılar Sitesi
1518 Sok. Mat-Sit İş Merkezi No.:2/20
Yenimahalle / ANKARA
Telefon: 0 312 384 20 33 | WhatsApp: 0 505 925 57 81
Belgegeçer: 0312 342 23 58
www.editoryayinevi.com | bilgi@editoryayinevi.com

ISBN 978-605-280-303-5

