



Akıllı Kalem

HAF TA HAF TA

8+1. Fasikül

DENEME SINAVLARI  
(8 ADET)



Karekod  
Çözümlü



Akıllı Tahta  
Uyumlu

2.  
sınıf

Pazartesi  
Salı  
Çarşamba  
Perşembe  
Cuma



Türkçe - Matematik - Hayat Bilgisi

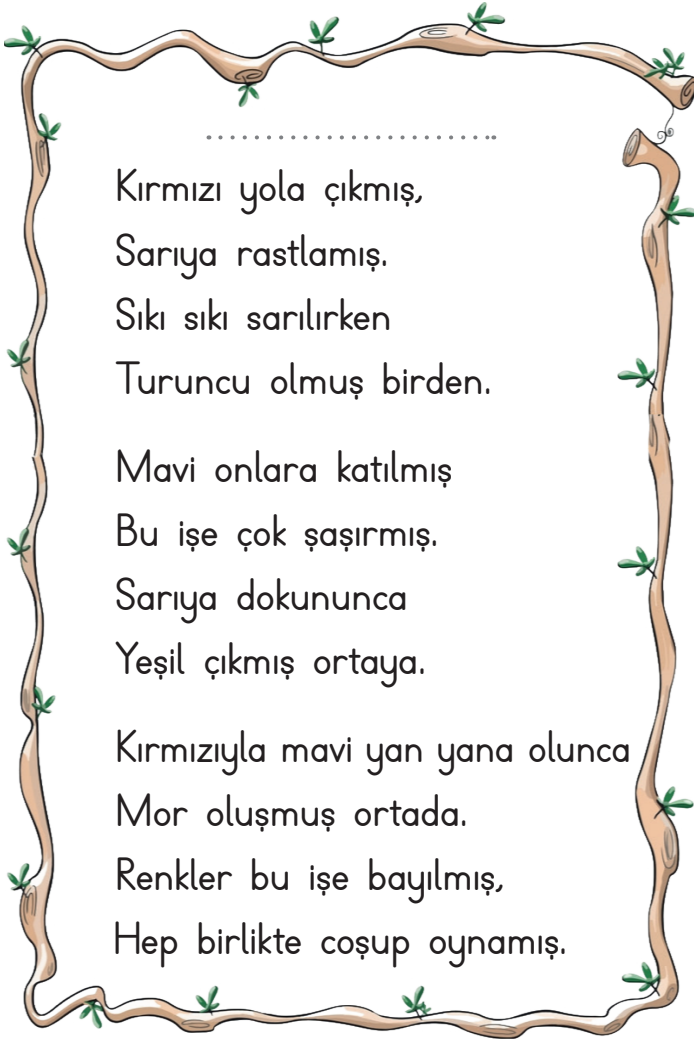
Yazarlar

Funda Menekşe  
Muharrem Ercan



Giriş  
Yayınları





Kırmızı yola çıkmış,  
Sarıya rastlamış.  
Sıkı sıkı sarılırken  
Turuncu olmuş birden.  
Mavi onlara katılmış  
Bu işe çok şaşırılmış.  
Sarıya dokununca  
Yeşil çıkmış ortaya.  
Kırmızıyla mavi yan yana olunca  
Mor oluşmuş ortada.  
Renkler bu işe bayılmış,  
Hep birlikte coşup oynamış.

1, 2 ve 3. soruları şiire  
göre cevaplayalım.

1. Yukarıdaki şiir ile ilgili hangi ifade yan-  
lıştır?

- A) Dizeler hâlinde yazılmıştır.  
B) Dört dize bir kıtayı oluşturmuştur.  
C) 3 dizeden oluşmuştur.

2. Şiirin başlığı aşağıdakilerden hangisi  
olabilir?

- A) Renklerin Oyunu  
B) Dünyamız  
C) Renklerin Savaşı

3. Kırmızı ve sarı karışınca hangi renk  
oluşur?

- A)  B)  C) 

4. K L O N M U

Yukarıdaki harfler kullanılarak hangi kelime  
yazılmaz?

- A) LOKUM B) OKUL C) LİMON






5. top →  para →  aç → 

Yukarıda bazı şekillerin karşısına kelimeler  
yazılmıştır. Hangi şeklin karşısındaki sözcü-  
ğün zıt anlamlısı vardır?

- A)  B)  C) 

6. Sözlükte "Kalem" kelimesinin anlamını  
bulmak isteyen Çağlar, bu sözcüğü hangi  
kelimeler arasında bulabilir?

- A) Katı - Kelime B) Kanal - Kütük  
C) Kaban - Kalp


7.       
2 1 21 11 23

Yukarıdaki kelime harflerin alfabe sırasına  
göre verilmiştir. Buna göre oluşan keli-  
menin eş anlamlısı aşağıdakilerden hangi-  
sidir?

- A) Sulh B) Savaş C) Zafer




8.



Yukarıdaki yıldız sayısı kaçtır?

- A) 32      B) 33      **C) 36**

9.



Ceren

Okul numaram 8 birlik,  
9 onluktan oluşuyor.

Buna göre Ceren'in okul numarası kaçtır?

- A) 89      B) 90      **C) 98**


10. Bir çiftlikteki 3 düzine tavuktan 6 tanesi satıldı. Kalan tavuk sayısı ile ilgili aşağıdakilerden hangisi doğrudur?

- A) Üç desteye eşittir.**  
B) İki düzineden beş fazladır.  
C) Bir desteden on fazladır.

11. Bir yarışta ikinciye geçen kişi kaçınıcı olur?

- A) 1.      **B) 2.**      C) 3.

12.



Yukarıdaki örüntüde ★ ve ▲ yerine hangi sayılar gelmelidir?

- A) ★ = 40      ▲ = 44  
B) ★ = 44      ▲ = 46  
**C) ★ = 46      ▲ = 48**

13.



Ege

Okul çantamıza tüm eşyalarımızı koymalıyız.



Ece

Sorunlarımızı çözerken birbirimize saygılı olmalıyız.



Efe

Isı kaybını önlemek için sınıfın pencerelerini açmalıyız.

Yukarıdaki öğrencilerden hangisi doğru bir bilgi vermiştir?

- A) Ege      **B) Ece**      C) Efe



.....  
Aralık ayıydı. Biz dersimizi dinlerken dışarıda lapa lapa kar yağmaya başladı. Hepimizin karın yağışını seyrettiğini gören öğretmenimiz bizi dışarı çıkardı. Birlikte kar topu yapıp oynadık.

1, 2 ve 3. soruları metne göre cevaplayalım.

1. Metinde anlatılan ay hangi mevsimin ayıdır?

A) İlkbahar B) Sonbahar C) Kış

2. Metne göre aşağıdakilerden hangisi söylenemez?

A) Kar yağmaya başlamıştır.  
B) Okullar tatil olmuştur.  
C) Öğretmen öğrencileriyle kar topu oynamıştır.

3. Metnin başlığı aşağıdakilerden hangisi olabilir?

A) Kar Topu B) Yaz Günü  
C) Temizlik

4. Aşağıdaki sözcüklerden hangisi tek heceli değildir?

A) Kalp B) Kahve C) Tren

5. 

$\left( \begin{array}{c} \text{Aç} \rightarrow 12 \\ \text{Az} \rightarrow 17 \end{array} \right)$	$\left( \begin{array}{c} \text{Tok} \rightarrow 345 \\ ? \end{array} \right)$
--	---

Yukarıda verilen kelimeler ve zıt anlamlıları sayılar ile şifrelenmiştir. Buna göre "?" yerine aşağıdakilerden hangisi getirilmelidir?

A) 136 B) 245 C) 317

6. "taşlıdır, Adana'nın, yolları, çok"

Yukarıdaki sözcüklerle anlamlı ve kurallı bir cümle kurarsak baştan ikinci ve sonuncu sözcük hangileri olur?

A) yolları - çok  
B) yolları - taşlıdır  
C) çok - Adana'nın

7. Aşağıdakilerden hangisi "Hasta olunca sesi kısıldı." cümlesindeki altı çizili kelimenin eş anlamlısıdır?

A) seda B) yankı C) söz

8. sultan ahmet camisi İstanbul'dadır.

Yukarıdaki cümlede kaç tane kelimenin yazımında yanlışlık yapılmıştır?

A) 2 B) 3 C) 4



9.



Sayılar küçükten büyüğe doğru sıralandığında hangi kelime ortaya çıkar?

- A) ASRI B) SIRA C) ASIR

10.



Deniz

Onluğa yuvarlandığında 90 olan en büyük ve en küçük sayıları söyleyiniz.

Deniz'in sorusuna verilecek cevaplar düşünüldüğünde hangi seçenek dışta kalır?

- A) 95 B) 94 C) 85

11. Türkan Hanım pazarda 28 ₺, markette 35 ₺ harcamıştır. Buna göre Türkan Hanım toplam kaç ₺ harcamıştır?

- A) 61 B) 62 C) 63

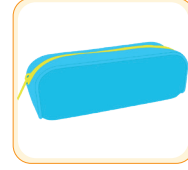
12. Bir sınıfın mevcudu 46 kişidir. Sınıfta 19 kız öğrenci olduğuna göre sınıftaki erkek öğrenci sayısı kaçtır?

- A) 25 B) 26 C) 27

13.



20 ₺



30 ₺



10 ₺

Yukarıdaki ürünlerden birer adet alan Tevfik satıcıya 90 ₺ veriyor. Buna göre Tevfik kaç ₺ para üstü alır?

A)



B)



C)



14. Aşağıdaki atasözlerinden hangisi birlik ve beraberlikle ilgili değildir?

- A) Ak akçe kara gün içindir.  
B) Birlikten kuvvet doğar.  
C) Yalnız taştan duvar olmaz.

15. Aşağıdaki nezaket ifadelerinden hangisi yanlış kullanılmıştır?

- A) Yemekte anneme "Eline sağlık!" dedim.  
B) Hasta olan arkadaşıma "Güle güle kullan!" dedim.  
C) Sabah kalkınca babama "Günaydın!" dedim.



1, 2 ve 3. soruları şiire  
göre cevaplayalım.

1. Şiirin başlığı aşağıdakilerden hangisi olabilir?

- A) HAYVANLAR      (B) KELEBEKLER  
C) BİTKİLER

2. Şiire göre aşağıdaki ifadelerden hangisi yanlıştır?

- A) Kelebeğin kanadı benek benektir.  
(B) Uçan kelebek hüzünlüdür.  
C) Kelebek gülünce dünya cennete döner.

3. Şiir kaç mısradan oluşmaktadır?

- (A) 8      B) 6      C) 4

4.

D	T	A	Z	E
A	K	I	S	A
R	B	O	Y	Ğ

GENİŞ

BAYAT

UZUN

EN

Yukarıdaki kelimelerin zıt anlamlıları sözcük avı bulmacasında boyandığında açıkta kalan harf aşağıdakilerden hangisi olur?

- (A) Ğ      B) Z      C) S

5. Satıra sığmayan "hanımeli" sözcüğü hangi seçenekte doğru bölünmüştür?

- A) .....han-  
imeli
- B) .....hanım-  
eli
- (C) .....hanı-  
meli

6. Kerim, çok gayret gösterdi ve başarıya ulaştı.

Yukarıdaki cümlede altı çizili kelimenin yerine hangisi getirilirse anlam bozulmaz?

- A) çalışkanlık      (B) çaba      C) koruma



7. Aşağıdaki cümlelerin hangisinde noktalama işareti yanlış kullanılmıştır?

- A) Deneme sınavında 1. oldum.  
B) Pazardan elma, armut, kivi aldım.  
C) Saat beş oldu mu gideceğim?

8. "Hangi sayının 33 fazlası 47 eder?" sorusunun matematik cümlesi ve çözümü hangi seçenekte doğru verilmiştir?

- A)  $\square + 33 = 47$   
 $47 - 33 = 14$   
B)  $\square - 33 = 47$   
 $33 + 47 = 70$   
C)  $47 - \square = 33$   
 $47 - 33 = 14$

9. Aşağıdaki işlemlerden hangisinde kutulara 25 yazılmalıdır?

- A)  $\begin{array}{r} \square \square \\ + 45 \\ \hline 60 \end{array}$  B)  $\begin{array}{r} \square \square \\ + 18 \\ \hline 47 \end{array}$  C)  $\begin{array}{r} \square \square \\ + 69 \\ \hline 94 \end{array}$

10. Berk, kitabının önce 36, sonra 48 sayfasını okuyarak kitabını bitirdi. Buna göre Berk tahminen kaç sayfa kitap okumuştur?

- A) 90 B) 80 C) 70

11.  $\begin{array}{r} 59 \\ - 22 \\ \hline \square \square \end{array}$  Yandaki işlemin tahmini sonucu ile gerçek sonucu arasındaki fark kaçtır?

- A) 1 B) 2 C) 3

12. •  $40 + 20 = 60$   
•  $3 + 6 = 9$   
•  $60 + 9 = 69$

Yukarıda zihinden yapıldığı verilen işlem hangisidir?

- A)  $\begin{array}{r} 43 \\ + 26 \\ \hline 69 \end{array}$  B)  $\begin{array}{r} 49 \\ + 26 \\ \hline 75 \end{array}$  C)  $\begin{array}{r} 43 \\ + 20 \\ \hline 63 \end{array}$

13. Tasarruf yapan birinin aşağıdaki davranışlardan hangisini yapması beklenir?

- A) Bulaşıkları makine yerine elde yıkaması  
B) Televizyonu kumandadan kapatması  
C) Çıktığı odanın ışığını kapatması

14. Tutumlu / Düzenli / Yardımsever

Yukarıdaki kişisel özellikleri verilen Alp'in hangisini yapması beklenmez?

- A) Okula zamanında gider.  
B) Soru soran kardeşini tersler.  
C) Kışın ısı kaybını önlemek için kapı ve pencereyi kapatır.





.....  
Soner, sabah uyanınca hemen ailesine "günaydın" der. Sofraya oturunca annesine "ellerine sağlık" annecim demeyi ihmal etmez. Soner, okulda arkadaşlarına ve öğretmenlerine karşı da çok kibar davranır. Tatlı dilli, güler yüzlü olduğu için herkes tarafından sevilir.

1 ve 2. soruları metne göre cevaplayalım.

1. Soner ile ilgili aşağıdakilerden hangisi söylenemez?

- A) Soner, çevresindekilere kibar davranır.  
B) Soner, sadece aile içinde tatlı dillidir.  
C) Soner, herkes tarafından sevilir.

2. Metnin başlığı aşağıdakilerden hangisi olabilir?

- A) Tatlı Dil ve Güler Yüz  
B) İnsanların Hataları  
C) Soner ve Kedisi

3.

Pırlı:

★ Senin burada ne işin var▲

Yukarıdaki cümlede "★" ve "▲" yerine hangi noktalama işaretleri gelmelidir?

A)

B)

C)

★	▲
.	?
-	?
-	.

4. Aşağıdaki kelimelerden hangisinde "Gel - Git" kelimeleri arasındaki ilişki gibi bir durum vardır?

A) İn - İnme

B) Korkak - Ürkek

C) Gül - Ağla

5. ▲ - Dik yokuş beni yordu.

● - Geçen hafta apartmanın bahçesine on yedi çam ağacı dikildi.

■ - Marketin önünde durdu.

Yukarıda sembollerle gösterilen cümlelerin hangisinde "Ne zaman?" sorusuna yanıt bulunabilir?

A) ▲

B) ●

C) ■



6.

$$49 + 11$$

Aşağıdakilerden hangisi verilen işlemin sonucuna eşittir?

(A)  $100 - 40$

B)  $45 + 25$

C)  $75 - 12$

7.



1 litre şişe, 4 su bardağı ile dolmaktadır.

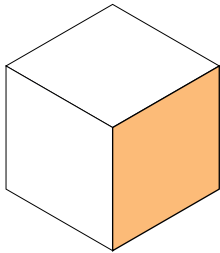
Buna göre aşağıdakilerden hangisi yukarıda verilen şişelerden birini doldurmak için gerekli bardak sayısı değildir?

(A) 9

B) 12

C) 20

8.



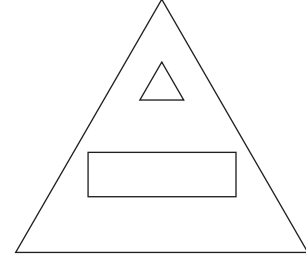
Küpün gösterilen yüzeyi ile oluşturulacak olan geometrik şekil için hangi ifade yanlıştır?

A) Karedir.

B) Tüm kenarları eşittir.

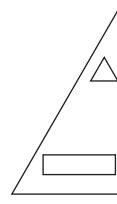
(C) 3 köşesi ve 3 kenarı vardır.

9.

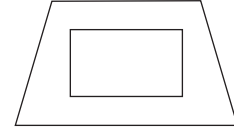


Yukarıda verilen şekil iki eş parçaya ayrılıyor. Parçalardan biri hangisidir?

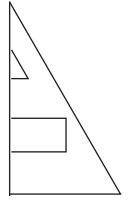
A)



B)



(C)



10. Aşağıdaki ifadelerden hangisi doğrudur?

A) Başkalarının terlik ve ayakkabılarını giyebiliriz.

(B) Hastalıklardan korunmak için kişisel bakımımızı düzenli yapmalıyız.

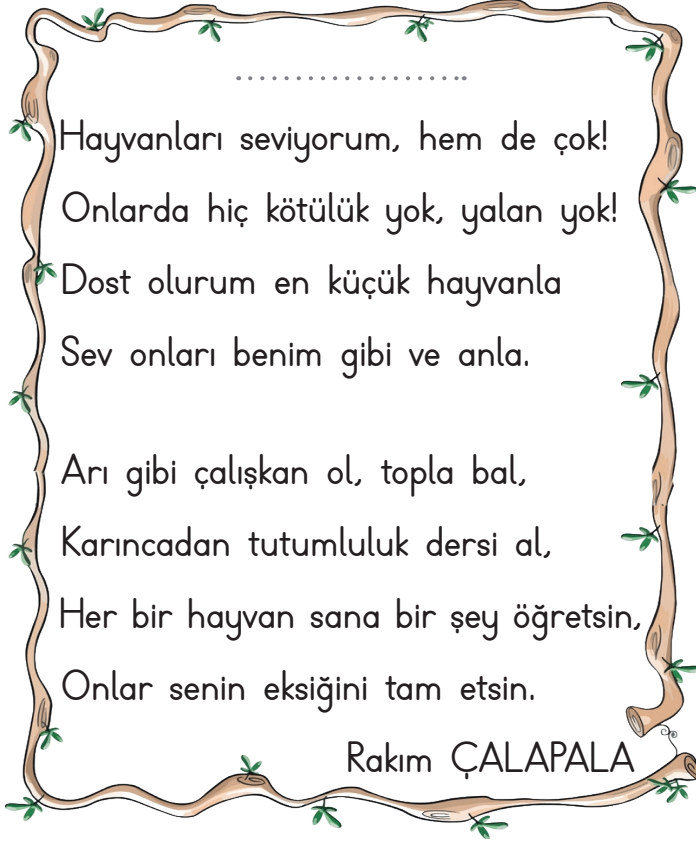
C) Tırnaklarımızın güzel görünmesi için tırnaklarımızı uzatmalıyız.

11. Yemekte görgü kurallarına dikkat eden Nebahat'in hangisini yapması beklenir?

A) Ağzını şapırdatarak yemek yer.

B) Ağzında lokma varken konuşur.

(C) Yemekte peçete kullanır.



1, 2, 3 ve 4. soruları şiire göre cevaplayalım.

1. Şiirin başlığı aşağıdakilerden hangisi olabilir?

- A) Doğayı Seviyorum  
B) Hayvanları Seviyorum  
C) Okulumu Seviyorum

2. Şair, hangi hayvan gibi çalışkan olmamızı öğütüyor?

- A)  B)  C) 

3. Şiire göre hangi hayvandan tutumluluk dersi almalıyız?

- A)  B)  C) 







4. Şiirin konusu aşağıdakilerden hangisidir?

- A) Aile Sevgisi B) Orman Sevgisi  
C) Hayvan Sevgisi

5. 

ve	domates	patlıcan	Erkan
almış	biber	pazardan	

Yukarıdaki kelimelerle anlamlı ve kural-  
lı bir cümle oluşturulduğunda hangi nok-  
talama işaretlerini kullanmak gerekir?

- A)   B)   C)  

6. Aşağıdaki kelimelerden hangisinin zıt an-  
lamlısı yoktur?

- A) yüksek B) güzel C) bak


7. Beril bu konuya çok itina gösteriyor.

Yukarıdaki cümlede altı çizili kelimenin eş  
anlamlısı aşağıdakilerden hangisidir?

- A) kolay B) özen C) ciddi



8.

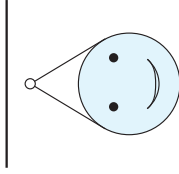


Yüzeylerinde 1'den 6'ya kadar sayılar verilen küpün farklı yönlerden görünüşleri yukarıda verilmiştir.

Buna göre son şekildeki küpün alt yüzeyindeki sayı kaçtır?

- A) 4 B) 3 C) 2

9.



Yukarıdaki şeklin simetriği aşağıdakilerden hangisidir?

- A) B) C)

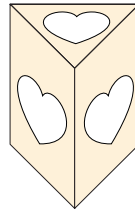
10. Aşağıdaki işlemlerden hangisi yanlış yapılmıştır?

- A)  $5 \times 4 = 20$  B)  $3 \times 5 = 15$  C)  $9 \times 2 = 16$

11. Her gün 4 ekmek yiyen bir aile 6 günde kaç ekmek yer?

- A) 20 B) 24 C) 28

12.



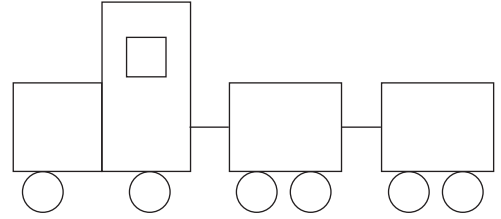
Belinay, patates baskısı yapmak için yandaki şekli kullanacaktır.

Buna göre Belinay, baskı yapınca aşağıdaki şekillerden hangisi oluşmaz?

gisi oluşmaz?

- A) B) C)

13.



Yukarıda geometrik şekillerle oluşturulan yapıda aşağıdakilerden hangisi yoktur?

- A) B) C)

14. Aşağıdaki ifadelerden hangisi doğrudur?

- A) Yazın koyu renkli kıyafetleri tercih etmeliyiz.  
B) Ulaşım türleri kara, hava, deniz ve demir yolu olmak üzere dört tanedir.  
C) Toplu taşıma araçlarına arka kapıdan binmeliyiz.

15. Acil Çağrı Merkezinin numarası kaçtır?

- A) 112 B) 183 C) 155



## TUTUM

Her şeyden tutum ile  
Daha çok üretiriz.  
Bu yoldan gideceğiz.  
Mutlu olacağız biz.

Odamız ışıklansın,  
Biz içinde yaşarken.  
Ocağı söndürelim  
Yemeğimiz taşarken.

Enerji kaynakları:  
Odun, kömür, su ve gaz  
Fakat bunlar tükenir,  
Dikkat etmezsek biraz.

1, 2, 3, 4 ve 5. soruları  
şiire göre cevaplayalım.

1. Hangi öğrenci şiirin ana duygusunu doğru söylemiştir?  
A) Ece: Yemek piştikten sonra ocağımızı söndürelim.  
B) Efe: Tutumlu olmalıyız.  
C) Ela: Odun, kömür, su ve gaz tükenebilir.
2. Aşağıdakilerden hangisi şairin ikinci dörtlükte verdiği öğütlerden biri değildir?  
A) Biz odadayken odanın ışığı açık olsun.  
B) Yemek taşarken ocağı söndürelim.  
C) Her gün kumbaramıza para atalım.
3. Aşağıdakilerden hangisi enerji kaynaklarından biri değildir?  
A) Odun      B) Kömür      C) Ateş
4. Şiire göre dikkat etmezsek tükenecek olan şey nedir?  
A) Odanın ışıkları  
B) Enerji Kaynakları  
C) Tutumluluk
5. Şiir kaç mısradan oluşmaktadır?  
A) 8      B) 10      C) 12
6. Aşağıdakilerden hangisinde diğerlerinden daha fazla çoğul isim kullanılmıştır?  
A) Ormandaki kuşların, böceklerin sesi insanı dinlendiriyor.  
B) Şiddetli esen rüzgâr ağaçları devirdi.  
C) İnsanlar çevreye daha duyarlı olmalıdır.
7. Aşağıdakilerden hangisinde varlığın özelliğini renk yönünden bildiren bir kelime vardır?  
A) Hızlı araba  
B) Mavi kazak  
C) Çalışkan öğrenci



8. Aşağıdaki cümlelerin hangisinde noktalama işareti yanlış kullanılmıştır?

- A) Vah, zavallı kedicik!  
B) Tatlı mı tatlı bir köpekti?  
C) Kuşum Maviş hastalandı.

9. I.  $5 \times 6 = 30$

II.  $0 \times 8 = 8$

III.  $1 \times 7 = 7$

Yukarıdaki işlemlerden hangisi yanlıştır?

- A) I                      B) II                      C) III

10.

$$20 - 5 = 15$$

$$15 - 5 = 10$$

$$10 - 5 = 5$$

$$5 - 5 = 0$$



Yukarıdaki ardışık çıkarma işlemini ifade eden bölme işlemi hangisidir?

A) 
$$\begin{array}{r|l} 15 & 5 \\ -15 & 3 \\ \hline 00 & \end{array}$$

B) 
$$\begin{array}{r|l} 20 & 5 \\ -20 & 4 \\ \hline 00 & \end{array}$$

C) 
$$\begin{array}{r|l} 20 & 4 \\ -20 & 5 \\ \hline 00 & \end{array}$$

11.

$$18 \div 3 = 6$$

Yukarıdaki bölme işlemi için hangisi söylenebilir?

- A) Bölünen sayı 18'dir.  
B) Bölen sayı 6'dır.  
C) Bölüm 3'tür.

12. Veli, 3 tanesi 18 TL olan balonlardan 5 tane aldı. Satıcıya 50 TL veren Veli kaç TL para üstü alır?

- A) 14                      B) 20                      C) 24

13. Aşağıdaki ifadelerden hangisi yanlıştır?

- A) Günlük hayatta kullandığımız teknolojik aletler hayatımızı kolaylaştırır.  
B) Park alanı, güvenli bir oyun alanıdır.  
C) Ülkemizin başkenti İstanbul'dur.

14. İstiklâl Marşımız hangi tarihte kabul edilmiştir?

- A) 12 Mart 1921                      B) 18 Mart 1921  
C) 19 Mayıs 1921



1. Aşağıdaki cümlelerden hangisi sebep - sonuç cümlesidir?

- A) Ayşe hastalanmış.  
B) Kitabını unutunca eve geri döndü.  
C) Öğretmen derse girmedi.

2.  Akşam olunca hastalandı.  
 Koştuğu için terledi.  
 Soğuk su içti.  
 Ali gün boyu bahçede oynadı.

Yukarıdaki cümleleri oluş sırasına göre sıralarsak sıralama nasıl olur?

- A)  4  
 2  
 3  
 1
- B)  1  
 2  
 3  
 4
- C)  2  
 3  
 1  
 4

3.



Yargıç



Doktor



Öğrenci

Yukarıdaki görsellerin eş anlamlıları hangi seçenekte doğru verilmiştir?

- A) Hakim - Hemşire - Tabela  
B) Hakem - Hekim - Öğrenci  
C) Hakim - Hekim - Talebe

4.

Pırl pırl, şırıl şırıl  
Türkü gibi akardı sular...  
Ne oldu da  
Karardı denizler, akarsular,  
Ne oldu da sarardı çocuklar?

Aziz SİVASLIOĞLU

Şair mısralarında neyi vurgulamaktadır?

- A) Çevre Kirliliği  
B) Kitap Okumanın Önemi  
C) Okul Özlemi

5. "Söylediği sözler bana çok ağır geldi." cümlesinde altı çizili sözcük anlamını kaybederek farklı bir anlam kazanmıştır.

Buna göre aşağıdaki altı çizili sözcüklerin hangisi buna benzerdir?

- A) Onu kırdığı için çok üzülyordu.  
B) Sınıfın en çalışkanı Aliydi.  
C) Efe dün komşunun camını kırmış.

6. Aşağıdaki cümlelerin hangisinde sestesh bir sözcük kullanılmıştır?

- A) Odamda kitap okudum.  
B) Hangi okulda okuyorsun?  
C) Dizimi kanepeye vurdum.



Pt	Sa	Ça	Prş	Cu	Ct	Pzr
1	2	3	4	5	6	7
8	9	10	11	12	13	14
15	16	17	18	19	20	21
22	23	24	25	26	27	28
29	30					

Kasım 2021

7 ve 8. soruları takvime göre cevaplayalım.

7. Mustafa Kemal Atatürk, 10 Kasım 1938 tarihinde Dolmabahçe Sarayı'nda hayata gözlerini yummuştur.

Takvime göre 10 Kasım tarihi hangi güne denk gelmektedir?

- (A) Çarşamba     (B) Perşembe     (C) Cuma

8. Kasım ayı hangi günle başlayıp hangi günle bitmektedir?

- (A) Çarşamba - Cuma  
 (B) Pazartesi - Salı  
 (C) Pazartesi - Pazar

9. Aşağıdakilerden hangisi yanlıştır?

- (A) Bir bütün iki eş parçaya ayrıldığında eş parçalardan her birine yarım denir.  
 (B) Bir bütün dört yarımdan oluşur.  
 (C) Bir yarım iki çeyrekte oluşur.

10.

05:30

Yukarıdaki saatin okunuşu aşağıdakilerden hangisidir?

- (A) Saat beşe çeyrek var.  
 (B) Saat beş buçuk  
 (C) Saat dördü kırk beş geçiyor.

11.1. Millî Bayramlar, okullarda ve stadlarda kutlanır.

2. Kına gecesi kültürel öğelerimizden değildir.

3. Bitkiler ve hayvanlar toprak, su, güneş ve havaya ihtiyaç duyarlar.

Yukarıdaki numaralarda verilen bilgilerden hangisi yanlıştır?

- (A) 1     (B) 2     (C) 3





## SAYGI

Her toplumun kendine özgü değerleri vardır. Türk toplumunun en önemli değerlerinden biri saygıdır. Türk insanı bayrağına, büyüklerine, çevresine saygı gösterir. Çünkü toplumumuz saygı göstermenin önemini çok iyi bilir.

1 ve 2. soruları yukarıdaki metne göre cevaplayalım.

1. Metnin konusu nedir?

- A) Sevgi       B) Saygı      C) Çalışkanlık

2. Metinde Türk insanının saygı gösterdikleri arasında hangisi yoktur?

A)



B)



C)



3. Emniyet kemeri hayat kurtarır!



Afişte verilmek istenen mesaj aşağıdakilerden hangisidir?

A) Emniyet kemerini sadece çocuklar takmalıdır.

B) Emniyet kemeri canımızı korur.

C) Emniyet kemerini her zaman takamayız.

4.

Yaz

Sahil

Yan

Yüz

Yoğurt

Ben

Metinde geçen yukarıdaki kelimelerden kaç tanesi eş seslidir?

A) 2

B) 3

C) 4

5. 1. Otobüse bindim.

2. Sabah erkenden kalktım.

3. Hastaneye kontrole gittim.

Numaralanmış olayların oluş sırası aşağıdakilerden hangisinde doğru verilmiştir?

A) 2-1-3

B) 1-2-3

C) 3-1-2

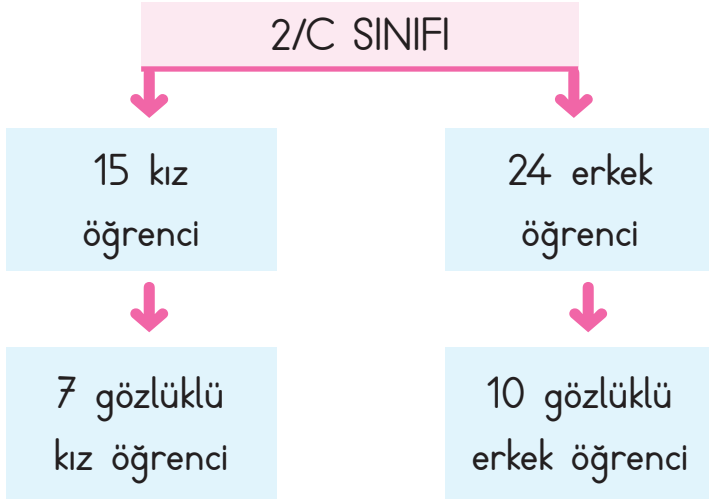
6. Höşmerim, Anadolu ( ) nun birçok yerinde yapılan bir tatlı çeşididir. İçinde şeker ( ) tuzsuz peynir ( ) un ve yağ vardır. Sevilerek yenen çok güzel bir helvadır ( )

Yukarıdaki ayraçlara sırasıyla aşağıdakilerden hangileri getirilmelidir?

A) (.) (.) (.) (.)

B) (') (') (') (')

C) (') (') (') (')



7 ve 8. soruları ağaç şemasına göre cevaplayalım.

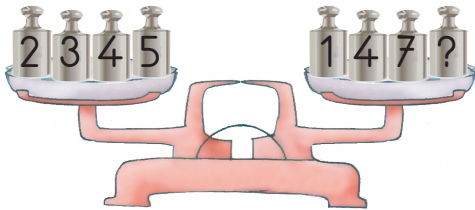
7. 2/C sınıfındaki gözlüksüz kız ve erkek öğrenci sayısı kaçtır?

- A) 20      B) 21      **C) 22**

8. 2/C sınıfındaki gözlüksüz erkek öğrenci sayısı gözlüklü kız öğrenci sayısından kaç fazladır?

- A) 7**      B) 6      C) 5

9.



Terazinin eşit olması için ? yerine kaç kg ağırlık konulmalıdır?

- A) 1      **B) 2**      C) 3      **A) Çiğ**      B) Rüzgâr      C) Sis

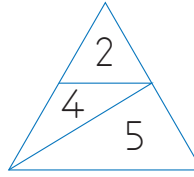
10.

$$\text{Red Bag} + \text{Red Bag} = 10$$

$$\text{Blue Book} + \text{Blue Book} + \text{Blue Book} = 6$$

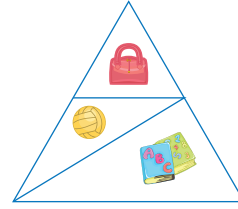
$$\text{Yellow Ball} + \text{Yellow Ball} + \text{Yellow Ball} + \text{Yellow Ball} = 16$$

olarak veriliyor.

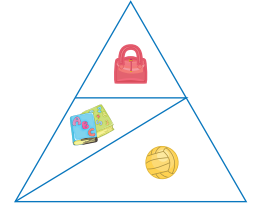


Şekline karşılık gelen ifade aşağıdakilerden hangisidir?

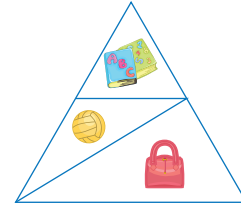
A)



B)



**C)**



11. Aşağıdaki ifadelerden hangisi yanlıştır?

A) Pusula yön bulmak için kullanılır.

B) Dünya, Güneş'in etrafında dolanır.

**C) Mevsimler Dünya'nın kendi etrafında dönmesiyle oluşur.**

12. Aşağıdakilerden hangisi hava olaylarından biri değildir?

## DENEME CEVAP ANAHTARI

1. DENEME	1	2	3	4	5	6	7	8	9	10	11	12	13
	C	A	B	C	A	C	A	C	C	A	B	C	B

2. DENEME	1	2	3	4	5	6	7	8	9	10	11	12	13	14	15
	C	B	A	B	B	B	A	B	C	A	C	C	C	A	B

3. DENEME	1	2	3	4	5	6	7	8	9	10	11	12	13	14
	B	B	A	A	C	B	C	A	C	A	A	A	C	B

4. DENEME	1	2	3	4	5	6	7	8	9	10	11
	B	A	B	C	B	A	A	C	C	B	C

5. DENEME	1	2	3	4	5	6	7	8	9	10	11	12	13	14	15
	B	C	A	C	A	C	B	C	C	C	B	B	A	B	A

6. DENEME	1	2	3	4	5	6	7	8	9	10	11	12	13	14
	B	C	C	B	C	A	B	B	A	B	A	B	C	A

7. DENEME	1	2	3	4	5	6	7	8	9	10	11
	B	A	C	A	A	C	A	B	B	B	B

8. DENEME	1	2	3	4	5	6	7	8	9	10	11	12
	B	A	B	C	A	B	C	A	B	C	C	A



Akıllı Kalem

# HAFTA HAFTA

## NEDEN FASİKÜL?

Değerli Öğretmenlerimiz;

- ✓ Etkinlik kitabımız 8+1 fasikül olup toplamda 564 sayfadır.
- ✓ 1 fasikül deneme sınavlarından oluşmaktadır.
- ✓ Kazanımlar günlük ve yıllık plana göre sıralanmıştır.
- ✓ Kazanımlar haftalık dilimlerle verilerek kolay ve kalıcı öğrenme sağlanmıştır.
- ✓ Öğrencilerimize düzenli, öğretmenlerimize verimli çalışma imkanı sunmaktadır.
- ✓ Kolay taşınabilir, pratik, kullanışlı ve alanında bir ilk!



- 8 Adet Deneme Sınavı
- 20 sayfa



- Türkçe
- Matematik
- Hayat Bilgisi
- 1, 2, 3, 4. Hafta Etkinlikleri
- 64 sayfa



- Türkçe
- Matematik
- Hayat Bilgisi
- 5, 6, 7, 8. Hafta Etkinlikleri
- 64 sayfa



- Türkçe
- Matematik
- Hayat Bilgisi
- 9, 10, 11, 12, 13. Hafta Etkinlikleri
- 80 sayfa



- Türkçe
- Matematik
- Hayat Bilgisi
- 14, 15, 16, 17, 18. Hafta Etkinlikleri
- 80 sayfa



- Türkçe
- Matematik
- Hayat Bilgisi
- 19, 20, 21, 22. Hafta Etkinlikleri
- 64 sayfa



- Türkçe
- Matematik
- Hayat Bilgisi
- 23, 24, 25, 26. Hafta Etkinlikleri
- 64 sayfa



- Türkçe
- Matematik
- Hayat Bilgisi
- 27, 28, 29, 30, 31. Hafta Etkinlikleri
- 64 sayfa



- Türkçe
- Matematik
- Hayat Bilgisi
- 32, 33, 34, 35, 36. Hafta Etkinlikleri
- 64 sayfa



Giriş  
Yayınları

İvedik Organize Sanayi 1518 Sok. Matbaacılar Sitesi  
Mat-Sit İş Merkezi No.:2/20 Yenimahalle / ANKARA  
Telefon: 0 312 384 20 33 Belgegeçer: 0312 342 23 58  
WhatsApp: 0505 099 24 84  
www.girisyyayinlari.com | girisyayinlari@gmail.com

