

SÜREÇ ODAKLI  
Problemler  
Fasikülü



1.  
SINIF



AKILLI TAHTA | MEB'İN YENİ KONSEPTİ | KAREKOD ÇÖZÜMLÜ



Giriş  
Yayınları

# 1. SINIF

## PROBLEMLER



### İSTİKLAL MARŞI

**Korkma, sönmez bu şafaklarda yüzen al sancak;  
Sönmeden yurdumun üstünde tüten en son ocak.  
O benim milletimin yıldızıdır, parlayacak;  
O benimdir, o benim milletimindir ancak.**

**Çatma, kurban olayım, çehreni ey nazlı hilâl!  
Kahraman ırkıma bir gül! Ne bu şiddet, bu celâl?  
Sana olmaz dökülen kanlarımız sonra helâl  
Hakkıdır, Hakk'a tapan, milletimin istiklâl!**

**Mehmet Âkif ERSOY**

### MEB'İN YENİ YÜZÜ!

Süreç odaklı değerlendirme ile birlikte kavram haritası, balık kılıcı, tanılayıcı dallanmış ağaç, yapılandırılmış grid, kelime ilişkilendirme, çalışma yaprağı, kavram karikatürleri gibi uygulamaya yönelik ölçme sistemine geçiş yapılmıştır. Buna bağlı olarak da öz değerlendirme, akran değerlendirme, performans değerlendirme, portfolyo gibi yeni ölçme araçları kullanılmıştır. Uygulamaya yönelik açık ve anlaşılır yönergelere yer verilmiştir. Boşluk doldurma, eşleştirme, işaretleme, doğru yanlış ve çoktan seçmeli sorular gibi geleneksel yöntemler demode olmuştur.

Bu kitabın bütün hakları Giriş Yayınlarına aittir.

Yayınevinin yazılı izni olmaksızın kısmen veya tamamen alıntı yapılamaz.

Tüm modellemeler teliflidir, esinlenme yapılamaz.

**Yazar:** Canan KILIÇ

**Sertifika No:** 40447

**BASKI VE CİLT**

Ankara Özgür Matbaası  
ANKARA



### İLETİŞİM


İvedik Organize Sanayi Matbaacılar Sitesi  
1518 Sok. Mat-Sit İş Merkezi No:2/20  
Yenimahalle / ANKARA  
Tel: 0 312 384 20 33  
WhatsApp: 0505 099 24 84  
www.girisyyayinlari.com  
girisyyayinlari@gmail.com







1




Bir vazoda 16 adet lale vardır. 4 lale daha ekledik. Vazoda kaç tane lale oldu? Yazalım.

19

18

20


2



Ali'nin 5 topu var. Annesi ona 3 top daha verdi. Ali'nin toplam kaç topu oldu? Yazalım.

7

8

9


3




Ayşe'nin 7 kalem var. Arkadaşı ona 4 kalem verdi. Ayşe'nin kaç kalem oldu? Yazalım.

9

10

11


4



Ela 8 kurabiye aldı. Elif ona 7 kurabiye daha verdi. Ela'nın toplam kaç kurabiyesi oldu? Yazalım.

12

17

15































1




Masada 8 bardak vardı. Bardaklardan 3'ü kırıldı. Kaç bardak kaldı? Yazalım.

7

6

5


2



Bir çiftlikte 20 koyun vardı, 8'i satıldı. Kaç koyun kaldı? Yazalım.

12

14

16


3



Markette 15 çikolata vardı. Çikolatalardan 5'i satıldı. Kaç çikolata kaldı? Yazalım.

10

9

8


4



Parkta 10 top vardı. 6'sı çocuklar tarafından alındı. Kaç top kaldı? Yazalım.

8


6

4






1



Elif'in 3 kalemı var.  
Annesi ona 5 tane  
daha kalem aldı.  
Şimdi Elif'in kaç  
kalemı var? Yazalım.

7

8

9


2




Semih'in 7 lirası  
vardı. 4 lira daha  
topladı. Toplam kaç  
lirası oldu? Yazalım.

12

11

10


3



Tabakta 5 elma  
var. 2 elma yersek  
elma sayısı nasıl  
olur? Yazalım.

Artar.

Azalır.

Eşit olur.


4



Kutuda 6 çikolata  
vardı. 4 tane daha  
eklendi. Kutuda kaç  
çikolata oldu? Yazalım.

10

9

8







1



Mert'in 4 topu vardı. Enes ona 6 top daha verdi. Mert'in toplam kaç topu oldu? Yazalım.

12
11
10



2



Bir kutuda 15 şeker vardı, 7 tanesi alındı. Kutuda kaç şeker kaldı? Yazalım.

8
7
6


3



Zeki'nin 20 lirası var. 6 lirasına çiçek aldı. Zeki'nin kaç lirası kaldı? Yazalım.

14
12
8


4




Kutuda 6 oyuncak var. 4 oyuncak eklersek oyuncak sayısı nasıl olur? Yazalım.

Artar.
Azalır.
Eşit olur.






1




Ali'nin 3 cevizi var.  
Annesi ona 2 ceviz  
daha verdi. Ali'nin  
toplam kaç cevizi  
oldu? Yazalım.

4

5

6


2




Kumbarada 20 lira  
vardı. 5 lira harcandı.  
Kumbarada kaç lira  
kaldı? Yazalım.

14

15

16


3




Bahçede 6 kuş var.  
3 kuş daha geldi.  
Bahçede toplam kaç  
kuş oldu? Yazalım.

8

9

10


4



Sepette 12 çiçek var.  
5 çiçek alındığında  
sepette kaç çiçek  
kalır? Yazalım.

6

7

8












1 - 4. soruları tabloya göre cevaplayalım.

Tablo: Manavdaki Meyve Sayıları

Meyve İsimleri	Meyve Sayıları
Armut	HHH HHH HHH III
Elma	HHH HHH HHH HHH
Kiraz	HHH
Muz	HHH HHH II

1 Manavda bulunan elma sayısı kaçtır? Yazalım.

10
15
20


3 Manavda sayısı en az olan meyve hangisidir? Yazalım.

Armut
Kiraz
Elma


2 Manavda bulunan muz ve kirazların toplamı kaçtır? Yazalım.

15
16
17


4 Manavda bulunan armutların sayısı kaçtır? Yazalım.

16
18
20




5 - 8. soruları tabloya göre cevaplayalım.

Tablo: Kitaplıkta Bulunan Kitap Çeşitleri

Kitap Çeşitleri	Kitap Sayısı
Hikâye	13
Masal	9
Şiir	15
Roman	7

5 Kitaplıkta bulunan masal ve roman kitaplarının toplamı kaçtır? Yazalım.

15

16

17


7 Kitaplıkta bulunan şiir sayısı romanlardan kaç fazladır? Yazalım.

6

7

8


6 Kitaplıkta en çok sayıda bulunan kitap çeşidi hangisidir? Yazalım.

Hikâye

Şiir

Masal


8 Kitaplıkta en az sayıda bulunan kitap çeşidi hangisidir? Yazalım.

Hikâye





Roman

Masal




1 - 4. soruları grafiğe göre cevaplayalım.

Grafik: Çiftlikteki Hayvanlar

Hayvanlar	Hayvan Sayısı
	12
	9
	7
	4

1 Çiftlikte kaç tane horoz vardır? Yazalım.

8
9
10


3 Çiftlikte kaç tane kuzu vardır? Yazalım.

8
9
7


2 Çiftlikte kaç tane inek vardır? Yazalım.

9
12
7






4 Çiftlikte kaç tane at vardır? Yazalım.

4
5
6




5 - 8. soruları grafiğe göre cevaplayalım.

Grafik: Oyuncakçındaki Oyuncak Sayısı

Oyuncaklar	Oyuncak Sayısı
Ayıcık	
Bebek	
Araba	
Robot	

Not: Her görsel bir oyuncacı göstermektedir.

5 Oyuncakçındaki bebek sayısı ayıcık sayısından kaç eksiktir? Yazalım.

4

5

6


6 Oyuncakçındaki bebek ve araba sayılarının toplamı kaçtır? Yazalım.

9

8

7


7 Oyuncakçındaki robot ve ayıcık sayısının toplamı kaçtır? Yazalım.

15

14

13


8 Oyuncakçındaki toplam oyuncak sayısı kaçtır? Yazalım.

19

20

18




# 2, 3 ve 4. Sınıflar için



www.ilkokuldata.com Dijital Eğitim Platformunun  
tanıtım ve kullanım videoları için  
karekodu okutunuz.

## Dijital Eğitim Platformunda Neler Var?

2, 3 ve 4. Sınıf seti alan öğretmen ve öğrencilerin tamamı Dijital Eğitim Platformuna sınırsız sahip olacaktır. Dijital Eğitim Platformunda

- Deneme sınavları çözme,
- Soru çözme,
- Konu çalışma,
- Yapay zeka destekli istatistiksel raporlar alma,
- Süreç odaklı dijital öğrenci takip sistemi,
- Ders kitabının dijital içerikleri,
- Akıllı tahta uygulamaları

gibi birçok özelliğe sahiptir.

## Dijital Eğitim Platformu Nasıl Kullanılır?

- Öğretmenin sisteme üye olması
  1. Öğretmen kendisi ilkokuldata.com'dan üyelik yapabilir.
  2. 0 (542) 262 03 37 whatsapp hattından yardım alarak üyelik yaptırabilir.
- Öğretmen, öğrenci listesini sisteme girdikten sonra öğrencilerin kullanıcı adı ve şifreleri otomatik oluşturulacak veya öğrenci listesini 0 (542) 262 03 37 whatsapp hattına göndererek sistem tarafından öğrenci şifreleri oluşturulacaktır.
- Öğrenci, öğretmeninden alacağı şifre ile sisteme giriş yapabilecektir.

\* Sınırsız kullanım süresi 1 eğitim-öğretim yılıdır.

Bandrol Uygulamasına İlişkin Usul ve Esaslar Hakkında Yönetmeliğin 5'inci maddesinin ikinci fıkrası çerçevesinde bandrol taşıması zorunlu değildir.



İvedik Organize Sanayi 1518 Sok. Matbaacılar Sitesi  
Mat-Sit İş Merkezi No.:2/20 Yenimahalle / ANKARA  
Telefon: 0 312 384 20 33 Belgegeçer: 0312 342 23 58  
WhatsApp: 0505 099 24 84  
www.girisyayinlari.com | girisyayinlari@gmail.com

